

Nazwa kwalifikacji: **Wytwarzanie wyrobów stolarskich**  
Oznaczenie kwalifikacji: **AU.15**  
Numer zadania: **01**  
Wersja arkusza: **SG**

Wypełnia zdający

Numer PESEL zdającego\*

--	--	--	--	--	--	--	--	--	--	--	--	--	--	--	--	--	--	--	--

Miejsce na naklejkę z numerem  
PESEL i z kodem ośrodka

Czas trwania egzaminu: **180 minut**

AU.15-01-20.01-SG

# **EGZAMIN POTWIERDZAJĄCY KWALIFIKACJE W ZAWODZIE**

## **Rok 2020**

### **CZĘŚĆ PRAKTYCZNA**

**PODSTAWA PROGRAMOWA  
2017**

#### **Instrukcja dla zdającego**

1. Na pierwszej stronie arkusza egzaminacyjnego wpisz w oznaczonym miejscu swój numer PESEL i naklej naklejkę z numerem PESEL i z kodem ośrodka.
2. Na **KARCIE OCENY** w oznaczonym miejscu przyklej naklejkę z numerem PESEL oraz wpisz:
  - swój numer PESEL\*,
  - oznaczenie kwalifikacji,
  - numer zadania,
  - numer stanowiska.
3. **KARTĘ OCENY** przekaz zespołowi nadzorującemu.
4. Sprawdź, czy arkusz egzaminacyjny zawiera 9 stron i nie zawiera błędów. Ewentualny brak stron lub inne usterki zgłoś przez podniesienie ręki przewodniczącemu zespołu nadzorującego.
5. Zapoznaj się z treścią zadania oraz stanowiskiem egzaminacyjnym. Masz na to 10 minut. Czas ten nie jest wliczany do czasu trwania egzaminu.
6. Czas rozpoczęcia i zakończenia pracy zapisze w widocznym miejscu przewodniczący zespołu nadzorującego.
7. Wykonaj samodzielnie zadanie egzaminacyjne. Przestrzegaj zasad bezpieczeństwa i organizacji pracy.
8. Jeżeli w zadaniu egzaminacyjnym występuje polecenie „zgłoś gotowość do oceny przez podniesienie ręki”, to zastosuj się do polecenia i poczekaj na decyzję przewodniczącego zespołu nadzorującego.
9. Po zakończeniu wykonania zadania pozostaw rezultaty oraz arkusz egzaminacyjny na swoim stanowisku lub w miejscu wskazanym przez przewodniczącego zespołu nadzorującego.
10. Po uzyskaniu zgody zespołu nadzorującego możesz opuścić salę/miejsce przeprowadzania egzaminu.

***Powodzenia!***

\* w przypadku braku numeru PESEL – seria i numer paszportu lub innego dokumentu potwierdzającego tożsamość

## Zadanie egzaminacyjne

Wykonaj szafkę nocną zgodnie z dokumentacją rysunkową zamieszczoną w arkuszu egzaminacyjnym. Formatki na elementy szafki zostały częściowo przygotowane i znajdują się na stanowisku egzaminacyjnym.

Wykonaj cięcie elementów, zachowując dokładność  $\pm 1$  mm. Formatki z płyty wiórowej na ściany boczne, wieńiec dolny i półkę szafki wymagają cięcia na długość. Formatka z płyty pilśniowej twardej lakierowanej białej na ścianę tylną wymaga cięcia na długość i na szerokość.

Oklej taśmą obrzeżową wąskie powierzchnie przednie w ścianach bocznych, wieńcu dolnym i półce oraz wąskie powierzchnie przednie i boczne w wieńcu górnym.

Wytrasuj i wywierć gniazda na kołki w wieńcu górnym, ścianach bocznych i w wieńcu dolnym oraz gniazda na podpórki pod półki w ścianach bocznych.

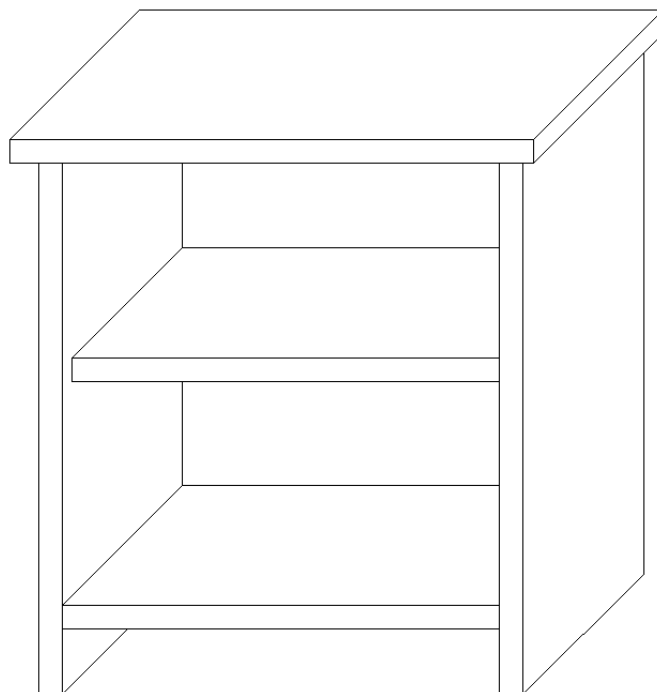
Wyfrezuj wręgi na ścianę tylną w ścianach bocznych. Wręg na ścianę tylną w wieńcu górnym został już wykonany.

*Uwaga! Po wykonaniu obróbki elementów szafki nocnej zgłoś, przez podniesienie ręki, gotowość do montażu wyrobu. Po uzyskaniu zgody przystąp do wykonywania czynności związanych z montażem wyrobu.*

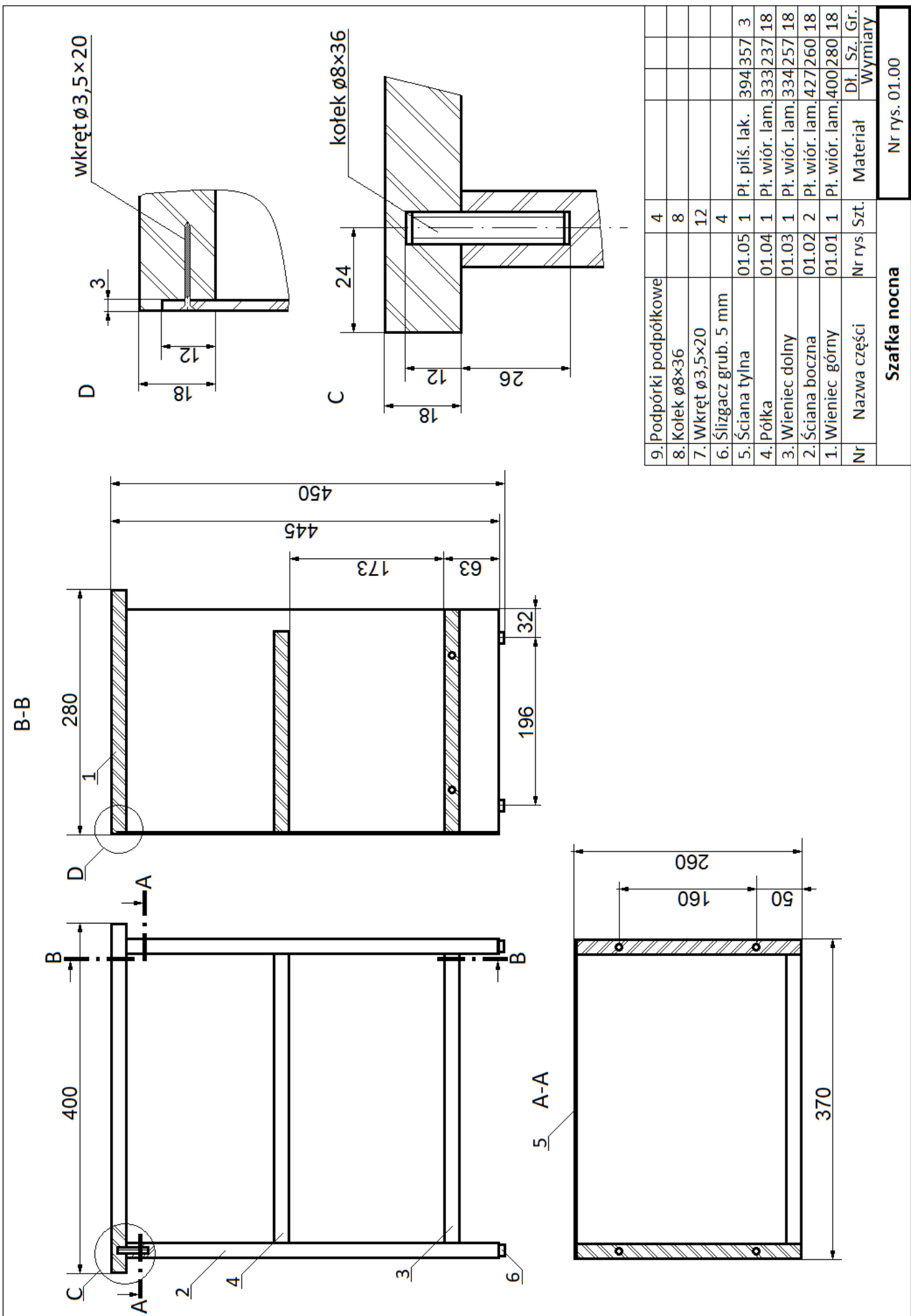
Dopasuj i sklej elementy korpusu. Ścianę tylną zamocuj do korpusu szafki za pomocą wkrętów po uprzednim wytrasowaniu i przewierceniu otworów. Oczyść wyrób z kurzu i resztek kleju. Zamocuj ślizgacze do ścian bocznych szafki. Półkę szafki zamontuj na podpórkach.

Zadanie wykonaj na stanowisku egzaminacyjnym wyposażonym w niezbędne materiały, narzędzia i sprzęt. Przestrzegaj zasad organizacji pracy, przepisów bezpieczeństwa i higieny pracy oraz ochrony środowiska.

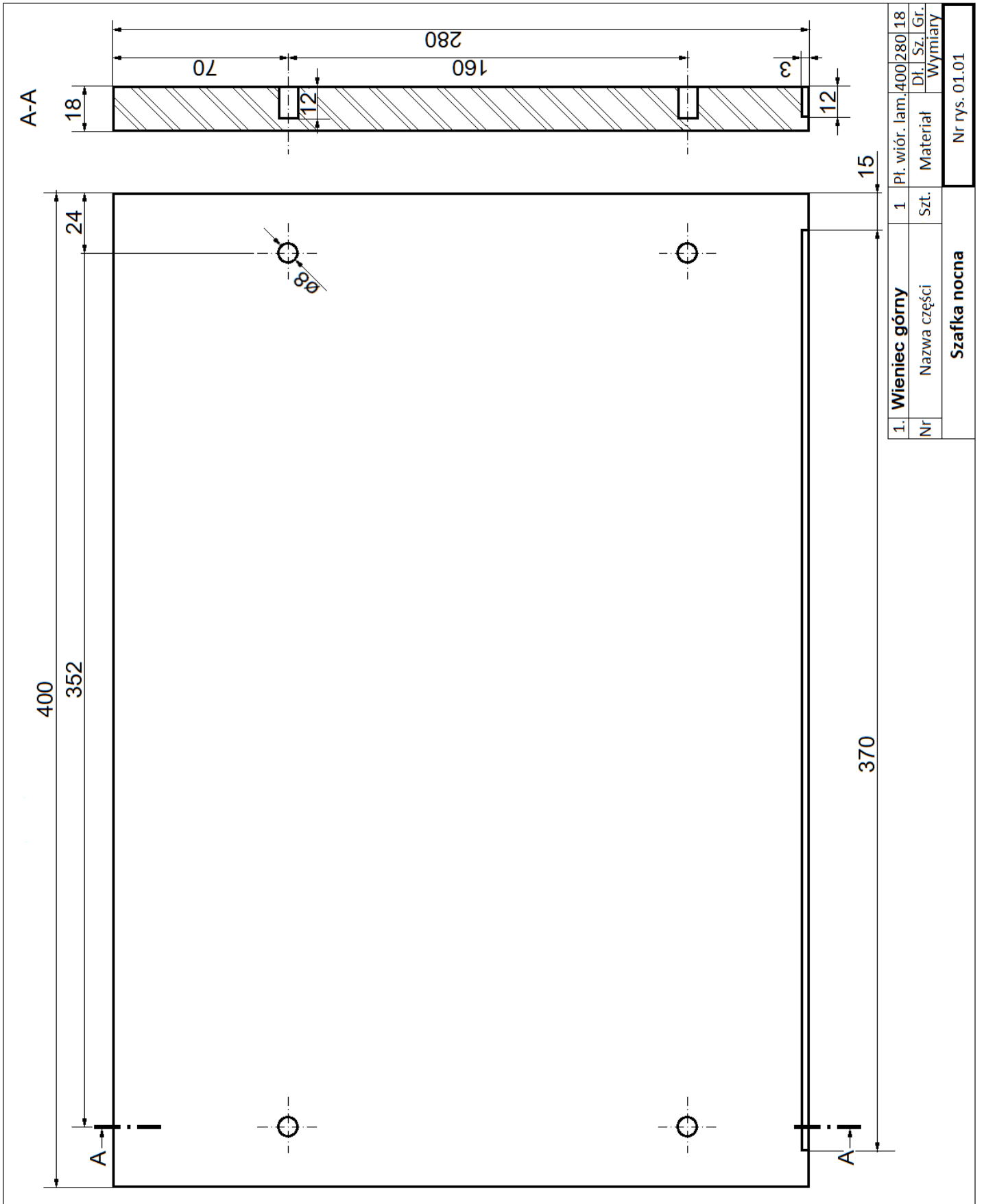
Po zakończeniu pracy oczyść narzędzia i sprzęt, uporządkuj stanowisko egzaminacyjne, odpady posegreguj i umieść w odpowiednich pojemnikach.

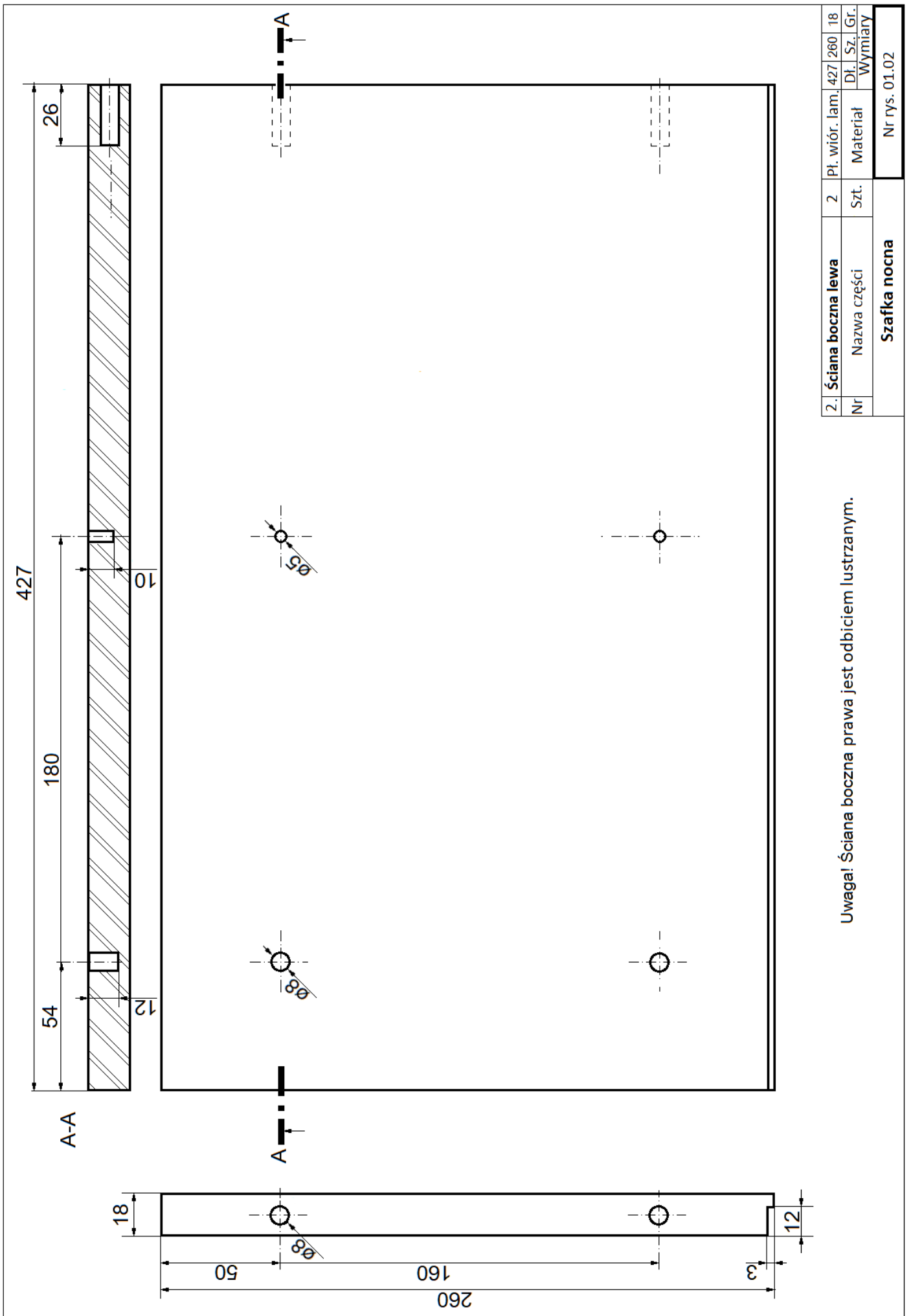


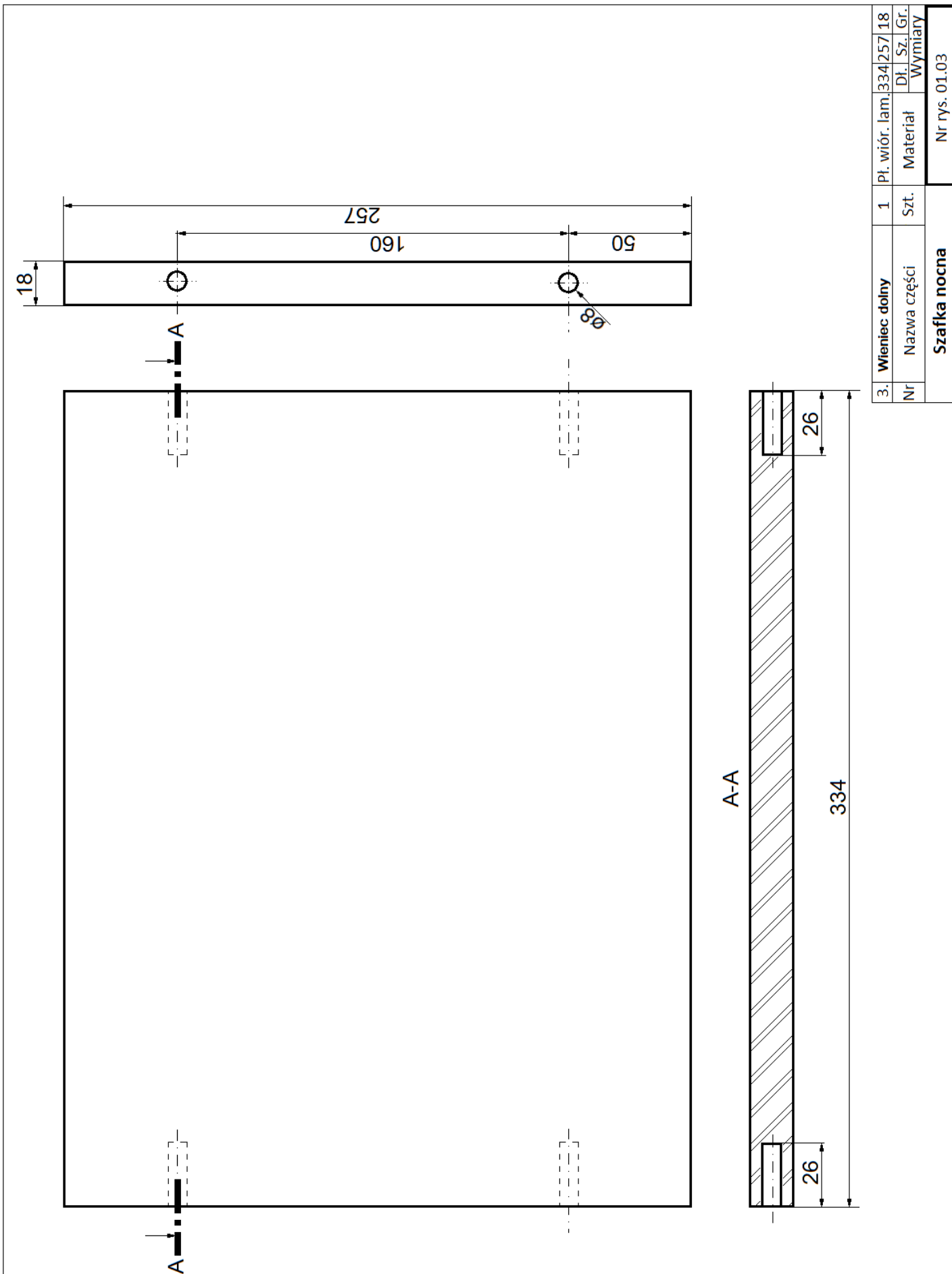
**Szafka nocna – rysunek poglądowy**



9. Podpórki podpółkowe	4							
8. Kofek $\varnothing 8 \times 36$	8							
7. Wkręt $\varnothing 3,5 \times 20$	12							
6. Ślizgacz grub. 5 mm	4							
5. Ściana tylna	01.05	1	Pl. pilś. lak.	394	357	3		
4. Półka	01.04	1	Pl. wiór. lam.	333	237	18		
3. Wieniec dolny	01.03	1	Pl. wiór. lam.	334	257	18		
2. Ściana boczna	01.02	2	Pl. wiór. lam.	427	260	18		
1. Wieniec górny	01.01	1	Pl. wiór. lam.	400	280	18		
Nr	Nazwa części	Nr rys.	Szt.	Materiał	Dł.	Sz.	Gr.	Wymiary
<b>Szafka nocna</b>								Nr rys. 01.00






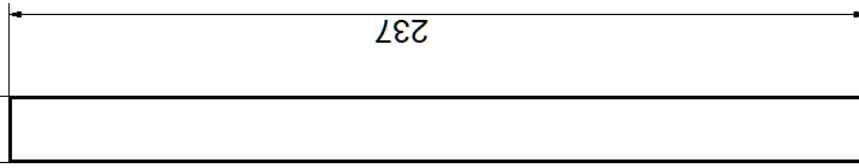


3.	Wieniec dolny	1	Pł. wiór. lam.	334/257	18
Nr	Nazwa części	Szt.	Materiał	Dł.	Sz.   Gr.
Szafka nocna				Wymiary	
				Nr rys. 01.03	

333

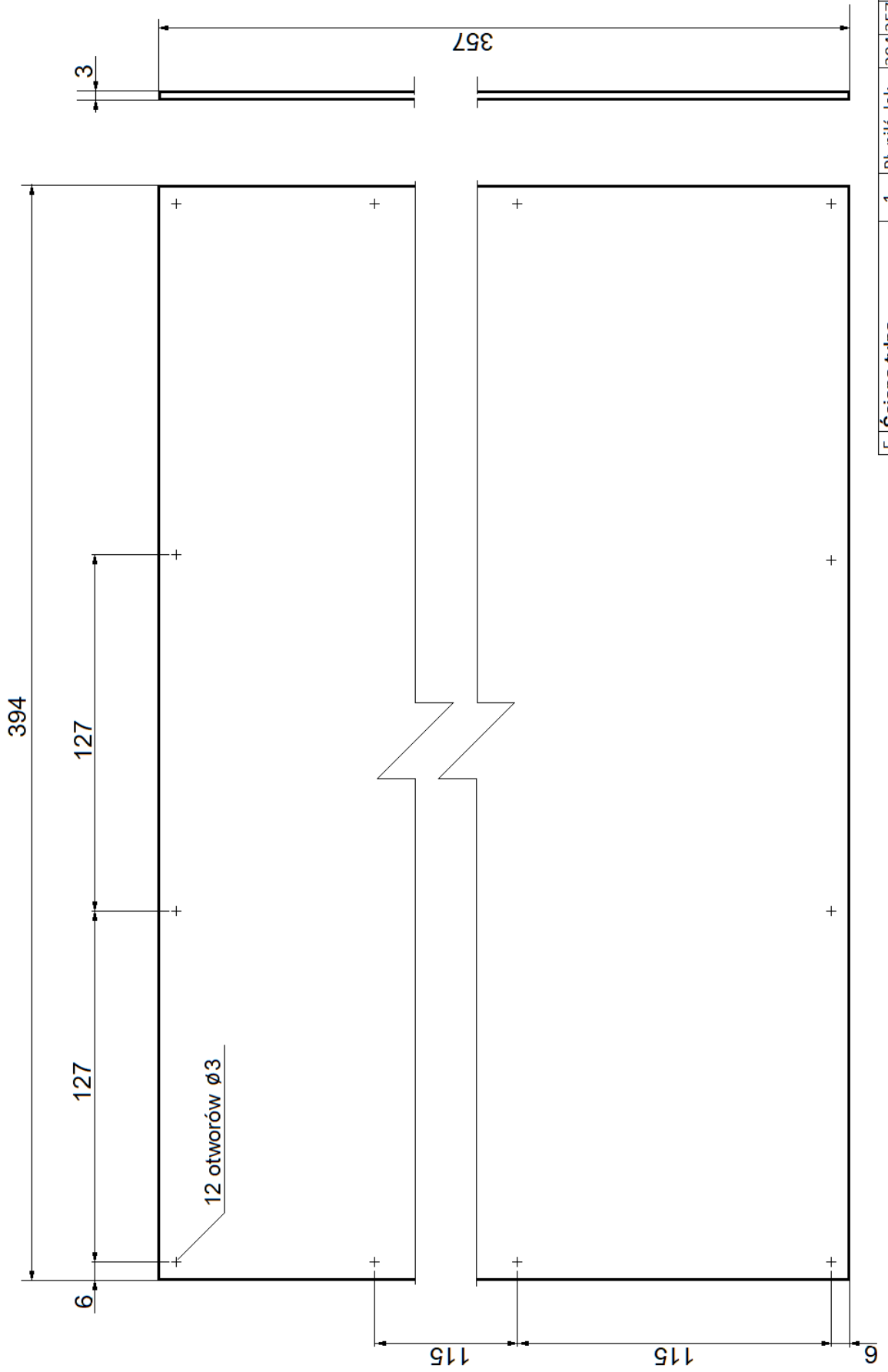


18



237

4.	Półka	1	Pł. wiór. lam.	333/237	18
Nr	Nazwa części	Szt.	Materiał	Dł.	Sz.   Gr.
Szafka nocna					Wymiary
					Nr rys. 01.04



5.	Ściana tylna	1	Pł. pilś. lak.	394/357	3
Nr	Nazwa części	Szt.	Materiał	Dł. Sz. Gr.	Wymiary
<b>Szafka nocna</b>					Nr rys. 01.05



**Czas przeznaczony na wykonanie zadania wynosi 180 minut.**

**Ocenić będą 2 rezultaty:**

- elementy szafki nocnej przygotowane do montażu,
- szafka nocna

oraz

przebieg wykonania szafki nocnej.