

Nazwa kwalifikacji: **Projektowanie i programowanie urządzeń i systemów mechatronicznych**

Oznaczenie kwalifikacji: **E.19**

Numer zadania: **01**

Wypełnia zdający

Miejsce na naklejkę z numerem
PESEL i z kodem ośrodka

Numer PESEL zdającego*

--	--	--	--	--	--	--	--	--	--	--

E.19-01-19.06

Czas trwania egzaminu: **180 minut**

**EGZAMIN POTWIERDZAJĄCY KWALIFIKACJE W ZAWODZIE
Rok 2019
CZĘŚĆ PRAKTYCZNA**

Instrukcja dla zdającego

1. Na pierwszej stronie arkusza egzaminacyjnego wpisz w oznaczonym miejscu swój numer PESEL i naklej naklejkę z numerem PESEL i z kodem ośrodka.
2. Na **KARCIE OCENY** w oznaczonym miejscu przyklej naklejkę z numerem PESEL oraz wpisz:
 - swój numer PESEL*,
 - oznaczenie kwalifikacji,
 - numer zadania,
 - numer stanowiska.
3. Sprawdź, czy arkusz egzaminacyjny zawiera 11 stron i nie zawiera błędów. Ewentualny brak stron lub inne usterki zgłoś przez podniesienie ręki przewodniczącemu zespołu nadzorującego.
4. Zapoznaj się z treścią zadania oraz stanowiskiem egzaminacyjnym. Masz na to 10 minut. Czas ten nie jest wliczany do czasu trwania egzaminu.
5. Czas rozpoczęcia i zakończenia pracy zapisze w widocznym miejscu przewodniczący zespołu nadzorującego.
6. Wykonaj samodzielnie zadanie egzaminacyjne. Przestrzegaj zasad bezpieczeństwa i organizacji pracy.
7. Po zakończeniu wykonania zadania pozostaw arkusz egzaminacyjny z rezultatami oraz **KARTĘ OCENY** na swoim stanowisku lub w miejscu wskazanym przez przewodniczącego zespołu nadzorującego.
8. Po uzyskaniu zgody zespołu nadzorującego możesz opuścić salę/miejsce przeprowadzania egzaminu.

Powodzenia!

* w przypadku braku numeru PESEL – seria i numer paszportu lub innego dokumentu potwierdzającego tożsamość

Zadanie egzaminacyjne

W zakładzie produkcyjnym funkcjonuje urządzenie mechatroniczne, w którym podczas konserwacji zmodernizowano układ napędowy. Sterownik PLC w tym urządzeniu steruje pracą dwóch siłowników pneumatycznych 1A1 i 2A1.

Na podstawie dokumentacji technicznej zawierającej:

- wykaz elementów elektrycznych układu napędowego urządzenia mechatronicznego podłączonych do sterownika PLC – tabela 1,
- wykaz elementów pneumatycznych układu napędowego urządzenia mechatronicznego – tabela 2,
- opis działania układu napędowego urządzenia mechatronicznego,
- cyklogramy pracy układu napędowego urządzenia mechatronicznego – rysunek 1,

sporządź:

- listę przyporządkowania – tabela 3,
- schemat połączeń elementów elektrycznych układu napędowego urządzenia mechatronicznego ze sterownikiem PLC,
- schemat połączeń elementów pneumatycznych układu napędowego urządzenia mechatronicznego,
- algorytm procesu sterowania układem napędowym urządzenia mechatronicznego w postaci sieci SFC.

Następnie napisz program sterowania siłownikami w języku LD lub FBD, lub IL, lub STL wraz z komentarzami odnoszącymi się do przynajmniej połowy kodu programu, opisującymi funkcje/działania realizowane przez sterownik.

Przetestuj działanie napisanego programu sterowniczego i zapisz w tabeli 4. ocenę spełnienia warunków.

Wykorzystując opcję *Drukuj (Print)* w programie do obsługi PLC i wirtualną drukarkę pdf wykonaj wydruki programu sterowniczego do pliku pdf.

Zadanie wykonaj na przygotowanym stanowisku egzaminacyjnym wyposażonym w sterownik PLC, komputer z zainstalowanym oprogramowaniem do obsługi sterownika PLC i wirtualną drukarką pdf. Do testowania programu sterowniczego wykorzystaj znajdujący się na stanowisku model urządzenia mechatronicznego.

UWAGA:

Przez podniesienie ręki zgłoś przewodniczącemu ZN gotowość do drukowania. Plik skopiuj do pamięci USB. Po otrzymaniu wydruków sprawdź, czy:

- są kompletne i czytelne,
- widoczna jest konfiguracja zastosowanych bloków funkcjonalnych,
- linie łączące bloki w programie napisanym w języku FBD nie pokrywają się,
- połączenia są czytelne i jednoznaczne.

Każdą stronę wydrukowanego programu podpisz swoim numerem PESEL. Jeżeli wydrukowałeś kilka wersji, wszystkie załącz do pracy egzaminacyjnej, opisując błędne wersje jako BRUDNOPIS. Wydruki zrzutów ekranu, nieczytelne lub niejednoznaczne i oznaczone jako BRUDNOPIS nie będą oceniane. Pamiętaj o wypełnieniu tabeli na ostatniej stronie arkusza.

Dokumentacja techniczna (fragment)

Tabela 1. Wykaz elementów elektrycznych układu napędowego urządzenia mechatronicznego podłączonych do sterownika PLC

Lp.	Oznaczenie elementu	Opis	Dane techniczne	Funkcja
1.	S1	Przycisk sterowniczy	- napięcie znamionowe 5÷30 V DC/AC - napęd monostabilny wciskany - zestyk NO	Uruchomienie układu napędowego
2.	S2	Przycisk sterowniczy	- napięcie znamionowe 5÷30 V DC/AC - napęd bistabilny wciskany - zestyk NC	Zatrzymanie działania układu napędowego
3.	B1	Czujnik położenia tłoka	- czujnik kontaktronowy - napięcie zasilania 5÷240 V DC/AC - zestyk NO - maksymalna częstotliwość przełączania 500 Hz	Detekcja pozycji wsuniętej tłoczyska siłownika 1A1
4.	B2	Czujnik położenia tłoka	- czujnik kontaktronowy - napięcie zasilania 5÷240 V DC/AC - zestyk NO - maksymalna częstotliwość przełączania 500 Hz	Detekcja pozycji wysuniętej tłoczyska siłownika 1A1
5.	B3	Czujnik położenia tłoka	- czujnik kontaktronowy - napięcie zasilania 5÷240 V DC/AC - zestyk NO - maksymalna częstotliwość przełączania 500 Hz	Detekcja pozycji wysuniętej tłoczyska siłownika 2A1
6.	B4	Czujnik optyczny	- czujnik odbiciowy - typ PNP - funkcja wyjścia NC - odległość przełączania 0÷1 m - napięcie zasilania 24 V DC - tolerancja zasilania ±10%	Detekcja obecności operatora
7.	Y1	Cewka elektrozaworu 1V1	- napięcie znamionowe 24 V DC - tolerancja zasilania ±10%	Realizacja wsuwu tłoczyska siłownika 1A1
8.	Y2	Cewka elektrozaworu 2V1	- napięcie znamionowe 24 V DC - tolerancja zasilania ±10%	Realizacja wysuwu tłoczyska siłownika 2A1
9.	Y3	Cewka elektrozaworu 2V1	- napięcie znamionowe 24 V DC - tolerancja zasilania ±10%	Realizacja wsuwu tłoczyska siłownika 2A1
10.	H1	Lampka sygnalizacyjna	- napięcie znamionowe 24 V DC/AC - tolerancja zasilania ±10% - źródło światła LED - kolor zielony	Sygnalizacja pracy urządzenia

Tabela 2. Wykaz elementów pneumatycznych układu napędowego urządzenia mechatronicznego

Lp.	Oznaczenie elementu	Opis	Dane techniczne	Funkcja
1.	1A1	Siłownik jednostronnego działania	<ul style="list-style-type: none"> - nominalne ciśnienie pracy 5 MPa - maksymalna prędkość tłoczyska 0,5 m/s - cylinder z jednostronnym tłoczyskiem - skok 120 mm - ciągnący ze sprężyną zwrotną - magnetyczna sygnalizacja położenia tłoka 	Pneumatyczny napęd liniowy
2.	2A1	Siłownik dwustronnego działania	<ul style="list-style-type: none"> - nominalne ciśnienie pracy 5 MPa - maksymalna prędkość tłoczyska 0,5 m/s - cylinder z jednostronnym tłoczyskiem - skok 180 mm - magnetyczna sygnalizacja położenia tłoka - nastawialna dwustronna amortyzacja 	Pneumatyczny napęd liniowy
3.	1V1	Pneumatyczny elektrozawór rozdzielający	<ul style="list-style-type: none"> - 3/2 normalnie zamknięty - sterowany elektromagnetycznie jednostronnie - mechaniczna sprężyna zwrotna - ciśnienie robocze 1÷10 bar - maksymalny przepływ 40 l/s 	Realizacja przemieszczeń siłownika 1A1
4.	2V1	Pneumatyczny elektrozawór rozdzielający	<ul style="list-style-type: none"> - 5/2 bistabilny - sterowany elektromagnetycznie dwustronnie - ciśnienie robocze 1÷10 bar - maksymalny przepływ 0,6 m³/min 	Realizacja przemieszczeń siłownika 2A1
5.	1V2	Zawór dławiąco-zwrotny	<ul style="list-style-type: none"> - maksymalne ciśnienie robocze 20 bar - ciśnienie otwarcia 0,5 bar - przepływ 0,6 m³/min 	Dwukrotne zmniejszenie prędkości wysuwania tłoczyska siłownika 1A1
6.	OZ1	Zespół przygotowania powietrza	<ul style="list-style-type: none"> - modułowy - skład zestawu: filtr, reduktor, manometr, smarownica, zawór odcinający - ciśnienie robocze max 16 bar - natężenie przepływu 35 dm³/s 	Filtracja, redukcja wartości ciśnienia
7.	OP	Sprężarka powietrza	<ul style="list-style-type: none"> - ciśnienie robocze 8 bar - ciśnienie maksymalne 10 bar - wydajność 1,77 m³/min 	Źródło zasilania sprężonym powietrzem

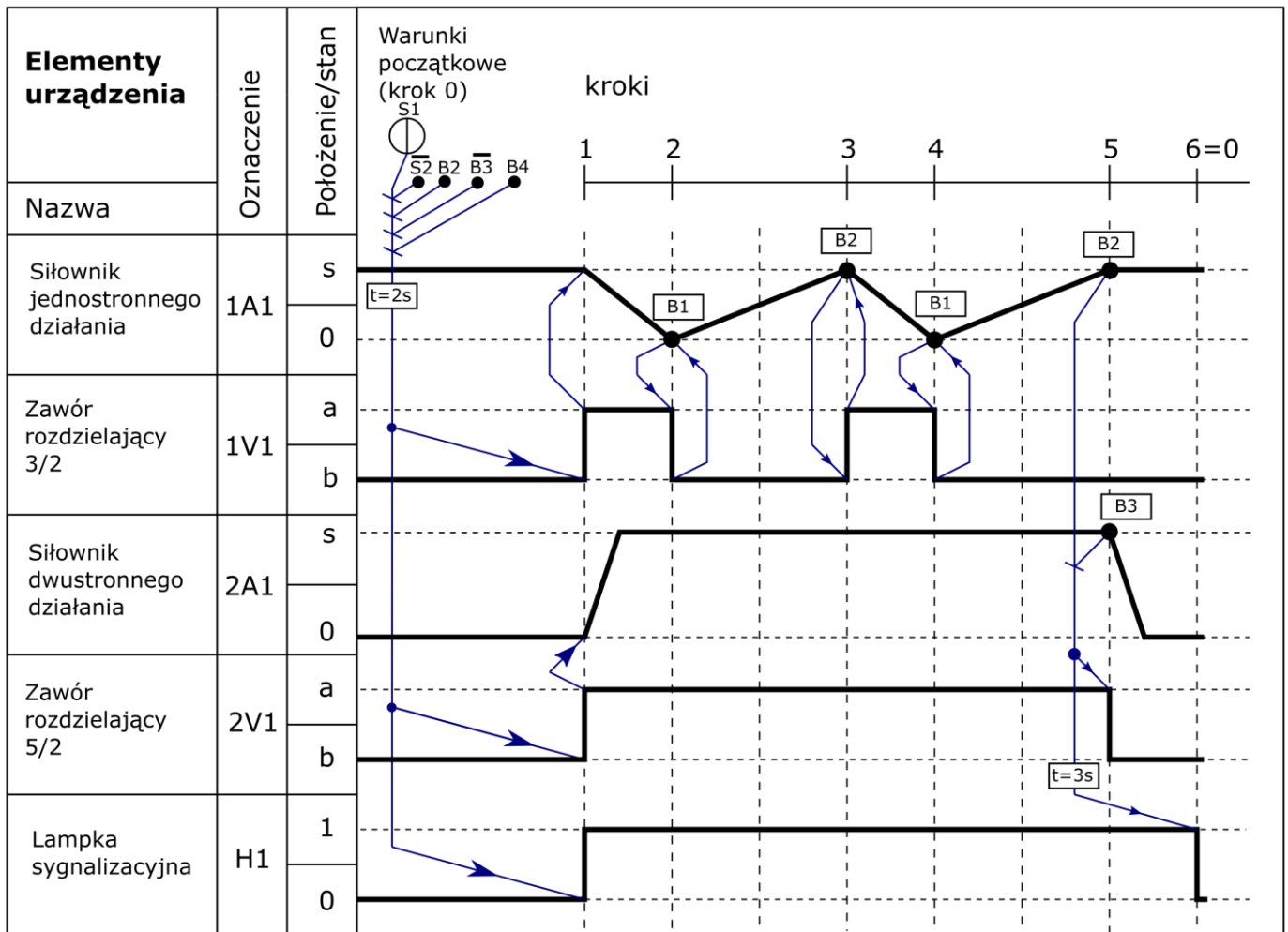
Opis działania układu napędowego urządzenia mechatronicznego

Układ napędowy urządzenia mechatronicznego składa się z dwóch siłowników tłoczyskowych. Uruchomienie układu następuje po wciśnięciu przycisku S1 na przynajmniej 2 sekundy.

Przy niewłaściwych pozycjach tłoczysk siłowników 1A1 lub 2A1 wykrytych przez odpowiednie czujniki lub przy wciśniętym przycisku S2 układ nie może zostać uruchomiony.


W każdej chwili działania układu wciśnięcie przycisku S2 lub nieobecność na stanowisku operatora wykrywana przez czujnik B4, powoduje natychmiastowe zatrzymanie pracy układu napędowego. Tłoczysko siłownika 1A1 wraca do pozycji wysuniętej, tłoczysko siłownika 2A1 wsuwa się, a lampka sygnalizacyjna H1 gaśnie.

Praca układu napędowego polega na wykonaniu sekwencji działań od 1. do 6. kroku. Ponowne uruchomienie układu możliwe jest po spełnieniu warunków początkowych.



Rysunek 1. Cyklogramy pracy układu napędowego urządzenia mechatronicznego

Schemat połączeń elementów elektrycznych układu napędowego urządzenia mechatronicznego ze sterownikiem PLC



Schemat połączeń elementów pneumatycznych układu napędowego urządzenia mechatronicznego




Tabela 4. Wyniki testu działania programu sterowniczego

Lp.	Sprawdzany warunek <i>Uwaga! Zapis np. S0=0 oznacza, że do wejścia sterownika PLC, z którym podłączony jest przycisk S0 podawany jest sygnał logiczny 0, zapis S0=1 oznacza, że do wejścia sterownika PLC, z którym podłączony jest przycisk S0 podawany jest sygnał logiczny 1. Dotyczy to wszystkich elementów podłączonych do sterownika PLC.</i>	Ocena spełnienia warunku (wpisz w odpowiedniej kolumnie x)	
		TAK	NIE
1.	Wciśnięcie na 2 sekundy przycisku S1 (S1=1), przy aktywnych B2 (B2=1) i B4 (B4=0) oraz nieaktywnych S2 (S2=1) i B3 (B3=0) powoduje zaświecenie H1 (H1=1)		
2.	W chwili zaświecenia H1 załączone zostają Y1 (Y1=1) i Y2 (Y2=1)		
3.	Uaktywnienie B1 (B1=1) powoduje wyłączenie Y1 (Y1=0)		
4.	W jednym cyklu pracy układu Y1 włączana jest dwukrotnie		
5.	Wciśnięcie w dowolnym momencie S2 (S2=0) powoduje zgaszenie H1 (H1=0)		
6.	Uaktywnienie B4 (B4=0) powoduje natychmiastowe wyłączenie Y1 (Y1=0)		

BRUDNOPIS
(miejsce niepodlegające ocenie)

Wypełnia zdający

Do arkusza egzaminacyjnego dołączam wydruki w liczbie: kartek – czystopisu i kartek – brudnopisu.

Wypełnia Przewodniczący ZN

Potwierdzam dołączenie przez zdającego do arkusza egzaminacyjnego wydruków w liczbie kartek łącznie.

.....
Czytelny podpis Przewodniczącego ZN