

Nazwa kwalifikacji: **Jeździectwo i trening koni**
Oznaczenie kwalifikacji: **R.27**
Wersja arkusza: **X**

R.27-X-19.06
Czas trwania egzaminu: **60 minut**

EGZAMIN POTWIERDZAJĄCY KWALIFIKACJE W ZAWODZIE
Rok 2019
CZEŚĆ PISEMNA

Instrukcja dla zdającego

1. Sprawdź, czy arkusz egzaminacyjny zawiera 10 stron. Ewentualny brak stron lub inne usterki zgłoś przewodniczącemu zespołu nadzorującego.
2. Do arkusza dołączona jest KARTA ODPOWIEDZI, na której w oznaczonych miejscach:
 - wpisz oznaczenie kwalifikacji,
 - zamaluj kratkę z oznaczeniem wersji arkusza,
 - wpisz swój numer PESEL*,
 - wpisz swoją datę urodzenia,
 - przyklej naklejkę ze swoim numerem PESEL.
3. Arkusz egzaminacyjny zawiera test składający się z 40 zadań.
4. Za każde poprawnie rozwiązane zadanie możesz uzyskać 1 punkt.
5. Aby zdać część pisemną egzaminu musisz uzyskać co najmniej 20 punktów.
6. Czytaj uważnie wszystkie zadania.
7. Rozwiązania zaznaczaj na KARCIE ODPOWIEDZI długopisem lub piórem z czarnym tuszem/atramentem.
8. Do każdego zadania podane są cztery możliwe odpowiedzi: A, B, C, D. Odpowiada im następujący układ kratek w KARCIE ODPOWIEDZI:

A	B	C	D
---	---	---	---

9. Tylko jedna odpowiedź jest poprawna.
10. Wybierz właściwą odpowiedź i zamaluj kratkę z odpowiadającą jej literą – np., gdy wybrałeś odpowiedź „A”:

<input checked="" type="checkbox"/>	B	C	D
-------------------------------------	---	---	---

11. Staraj się wyraźnie zaznaczać odpowiedzi. Jeżeli się pomylisz i błędnie zaznaczysz odpowiedź, otocz ją kółkiem i zaznacz odpowiedź, którą uważasz za poprawną, np.

<input checked="" type="checkbox"/>	B	C	<input checked="" type="checkbox"/>
-------------------------------------	---	---	-------------------------------------

12. Po rozwiązaniu testu sprawdź, czy zaznaczyłeś wszystkie odpowiedzi na KARCIE ODPOWIEDZI i wprowadziłeś wszystkie dane, o których mowa w punkcie 2 tej instrukcji.

Pamiętaj, że oddajesz przewodniczącemu zespołu nadzorującego tylko KARTĘ ODPOWIEDZI.

Powodzenia!

* w przypadku braku numeru PESEL – seria i numer paszportu lub innego dokumentu potwierdzającego tożsamość

Zadanie 1.

Wskaż rasę konia opisaną w ramce.


- A. Konik polski.
- B. Małopolska.
- C. Fryzyjska.
- D. Huculska.

Górska rasa koni, hodowana na Podkarpaciu. Doskonale zwierzę juczne, nadaje się do pracy w zaprzęgu. Małe i krępe, o mocnym grzbiecie, zadzie oraz twardych kopytach. Przeważa maść gniada, lecz często zdarza się srokata.

Zadanie 2.

Koń przedstawiony na rysunku reprezentuje typ konia do

- A. WKKW.
- B. reiningu.
- C. powożenia.
- D. wołyżerki.



Zadanie 3.

Werkowania kopyt u koni wykonuje się co

- A. 6 - 8 tygodni.
- B. 10 - 12 tygodni.
- C. 6 - 8 miesięcy.
- D. 10 - 12 miesięcy.

Zadanie 4.

Na rysunku przedstawiono

- A. widie.
- B. hacele.
- C. wkręty.
- D. zatyczki.



Zadanie 5.

Preparat o silnym działaniu odkażającym i dezynfekującym, stosowany do leczenia zgniłych strzałek kopytowych, to

- A. maść ichtiolowa.
- B. maść kamforowa.
- C. zasypka alantanowa.
- D. dziegieć.

Zadanie 6.

„Nadwyrężenie mięśni piersiowych konia z powodu przemieszczania się ich pod mocno dopiętym poprzęgiem. Może to nastąpić podczas schylania się lub obracania konia w wąskiej przestrzeni, np. w wąskim stanowisku z mocno dopiętym poprzęgiem.”

Opisany uraz mięśni to

- A. zagwożdżenie.
- B. zapoprężenie.
- C. odsednienie.
- D. gruda.

Zadanie 7.

Przedmiot przedstawiony na rysunku służy do

- A. czyszczenia sierści konia.
- B. zaplatania grzywy u koni zimnokrwistych.
- C. czyszczenia szczotki w trakcie czyszczenia sierści konia.
- D. naciągania pasów pociągowych w zaprzęgu czterokonnym.



Zadanie 8.

W jakich odstępach czasu koń systematycznie wyjeżdżający na zawody musi mieć wykonywane szczepienia przypominające na grypę i w którym dokumencie musi być to odnotowane?

- A. Co 3 miesiące – Książeczka szczepień konia.
- B. Co 6 miesięcy – Paszport konia Polskiego Związku Hodowców Koni.
- C. Co 12 miesięcy - Książeczka szczepień konia.
- D. Co 24 miesiące – Paszport konia Polskiego Związku Hodowców Koni.

Zadanie 9.

Jednostka chorobowa objawiająca się zakłóceniem pracy żołądka, jelit i silnymi bólami to

- A. gruda.
- B. ochwat.
- C. morzysko.
- D. mięśniochwat.

Zadanie 10.

Gorący, ciastowaty obrzęk kłębu, powstały na skutek ucisku siodła, to

- A. opój.
- B. gruda.
- C. zatrat.
- D. odsednienie.

Zadanie 11.

Minimalne warunki utrzymywania koni

§ 22.1. Powierzchnia boksu, o którym mowa w § 21 ust. 1 pkt 1, powinna wynosić, w przypadku utrzymywania:

1. koni dorosłych, których wysokość w kłębie wynosi do 1,47 m – co najmniej 6 m²;
2. koni dorosłych, których wysokość w kłębie wynosi powyżej 1,47 m – co najmniej 9 m²;
3. klaczy ze źrebięciem – co najmniej 12 m².

§ 22.2. Wymiary stanowiska, o którym mowa w § 21 ust. 1 pkt 2, powinny wynosić w przypadku utrzymywania:

1. koni dorosłych, których wysokość w kłębie wynosi do 1,47 m:
 - a) szerokość – co najmniej 1,6 m,
 - b) długość – co najmniej 2,1 m;
2. koni dorosłych, których wysokość w kłębie wynosi powyżej 1,47 m:
 - a) szerokość – co najmniej 1,8 m,

Na podstawie informacji zawartych w tabeli określ wielkość stanowiska, które spełnia minimalne warunki utrzymania konia o wysokości w kłębie 141 cm.

- A. Szerokość 1,5 m, długość 3,2 m.
- B. Szerokość 1,7 m, długość 3,0 m.
- C. Szerokość 1,4 m, długość 1,7 m.
- D. Szerokość 2,0 m, długość 1,5 m.

Zadanie 12.

Która pasza w układzie pokarmowym konia pęcznieje pod wpływem soków trawiennych, skleja się w grudki, które mogą wywołać kolikę?

- A. Ziarno żyta.
- B. Otręby pszenne.
- C. Siano z lucerny.
- D. Ześrutowane ziarno owsa.

Zadanie 13.

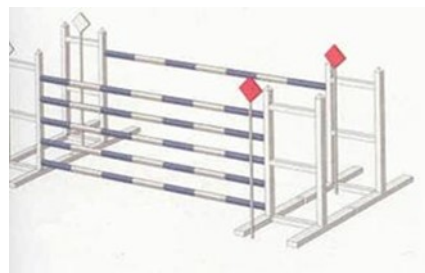
Świeżo zebrane ziarno owsa można skarmiać koniom

- A. bezpośrednio po zbiorze.
- B. tydzień po zbiorze, tylko gniecione lub ześrutowane.
- C. po 2 tygodniach od zbioru po wcześniejszym namoczeniu.
- D. po 4 – 6 tygodniach, po tzw. „wypoceniu się ziarna”.

Zadanie 14.

Przeszkoda przedstawiona na rysunku to

- A. okser.
- B. stacjonarna.
- C. triplebarre.
- D. doublebarre.



Zadanie 15.

Cztery podstawowe składniki meszu dla koni to:

- A. ziarno kukurydzy, siano, marchew, woda.
- B. śrutowane ziarno żyta, siewka, marchew, woda.
- C. ziarno jęczmienia, susz z lucerny, melasa, woda.
- D. ziarno owsa, siemię lniane, otręby pszenne, woda.

Zadanie 16.

Na rysunku przedstawiono

- A. ochraniacze transportowe.
- B. ochraniacze ujeżdżeniowe.
- C. ochraniacze skokowe.
- D. pokrowce na drągi.



Zadanie 17.

Obowiązującym na terytorium UE dokumentem identyfikacyjnym dla zwierząt koniowatych jest

- A. paszport koniowatego.
- B. karta pochodzenia konia.
- C. świadectwo pokrycia klaczy.
- D. dowód urodzenia źrebięcia.

Zadanie 18.

W czasie długich odcinków rajdu konnego, pokonywanych kłusem anglezowanym, należy pamiętać o

- A. przechodzeniu do kłusa ćwiczebnego.
- B. zmianie nogi co 1 km, tj. co 5 minut.
- C. wydłużeniu strzemion o 2 dziurki.
- D. skróceniu strzemion o 5 dziurek.

Zadanie 19.

Kondycja konia to

- A. zespół cech anatomicznych u konia.
- B. usposobienie i reakcja psychonerwowa konia.
- C. aktualny stan fizjologiczny konia, w jakim się znajduje.
- D. zespół cech nabytych i odziedziczalnych, warunkujący reakcję na bodźce.

Zadanie 20.

Na rysunku przedstawiono pas do

- A. zaprzęgu jednokonnego.
- B. zaprzęgu parokonnego.
- C. konkurencji rodeo.
- D. wołyżerki.



Zadanie 21.

Które siodło przedstawiono na rysunku?

- A. Wszechstronne.
- B. Ujeżdżeniowe.
- C. Wyścigowe.
- D. Skokowe.



Zadanie 22.

Na którym rysunku przedstawiony jest koń z nachrapnikiem meksykańskim?



A.



B.



C.



D.

Zadanie 23.


Naturalne pomoce jeździeckie to:

- A. wyczucie jeździeckie, ciężar, ręka.
- B. napięcie krzyża, bat, wytok.
- C. dosiad, łydka, wodza.
- D. głos, palcat, ostrogi.

Zadanie 24.

Ćwiczenie ujeżdzeniowe pokazane na rysunku, to

- A. żucie z ręki.
- B. oddawanie wodzy.
- C. kłus na długiej wodzy.
- D. zagalopowanie z lewej nogi.



Zadanie 25.

Krótkie, mocniejsze zamknięcie konia pomiędzy pomocami ciężaru, łydek i wodzy, po którym następuje ustąpienie wodzy wykonywane w celu np. zwiększenia uwagi konia przed nowym ćwiczeniem, nazywa się

- A. przepuszczalnością.
- B. ustępowaniem.
- C. półparadą.
- D. impulsem.

Zadanie 26.

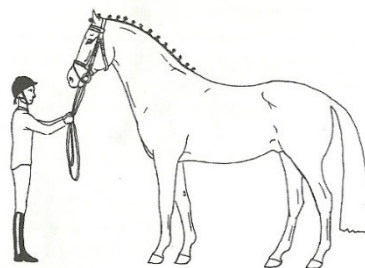
Dwukołowy, lekki wózek, ciągnięty przez kłusaka, to

- A. lando.
- B. coupe.
- C. sulky.
- D. brek.

Zadanie 27.

Postawę konia przedstawioną na rysunku nazywa się postawą

- A. zootechniczną.
- B. hipologiczną.
- C. anatomiczną.
- D. stadninową.



Zadanie 28.

System handicapowy polega na przeprowadzeniu gonitwy, w której szanse koni na zwycięstwo są wyrównywane przez

- A. lotny start wszystkich koni.
- B. wysokoenergetyczną dietę konia.
- C. start koni w różnych miejscach toru.
- D. zwiększenie albo zmniejszenie wagi noszonej przez konia.

Zadanie 29.

W konkurencji skoki przez przeszkody określenie czas maksymalny oznacza

- A. czas, jaki mają zawodnicy na oglądanie parkuru pieszo przed konkursem.
- B. podwójną normę czasu tzn. czas, jaki zawodnik może przebywać na parkurze.
- C. czas oczekiwana na wjazd zawodnika na parkur po zjechaniu poprzedniej pary.
- D. czas, jaki ma zawodnik na przejechanie celowników początkowych po ukłonie i sygnale od sędziego.

Zadanie 30.

Czerwona wstążka wpleciona w grzywę konia oznacza konia

- A. prowadzącego zastęp.
- B. zamykającego zastęp.
- C. na sprzedaż.
- D. gryzącego.

Zadanie 31.

Uszkodzenie mięśni barku i łopatki na skutek jazdy skosem po stromym zboczu lub gwałtownych skrętów w miejscu to

- A. opoje.
- B. spleczenie.
- C. odsednienie.
- D. zapoprężenie.

Zadanie 32.

Strój przedstawiony na rysunku to

- A. rajtrok skokowy.
- B. frak ujeżdżeniowy.
- C. płaszcz reiningowy.
- D. liberia powożącego.



Zadanie 33.

Obiekt przedstawiony na rysunku to

- A. wolta.
- B. parkur.
- C. karuzela.
- D. lonżownik.



Zadanie 34.

Odległość pomiędzy kolejnymi koziołkami (cavaletti) ustawionymi do ćwiczeń w stępie, kłusie i galopie wynosi odpowiednio:

- A. 80 cm (stęp), 130 cm (kłus), 300 cm (galop).
- B. 110 cm (stęp), 170 cm (kłus), 370 cm (galop).
- C. 140 cm (stęp), 210 cm (kłus), 400 cm (galop).
- D. 170 cm (stęp), 250 cm (kłus), 450 cm (galop).

Zadanie 35.

Brakujący element skali szkoleniowej oznaczony „...” to

- A. rytm.
- B. impuls.
- C. równowaga.
- D. przepuszczalność.



Zadanie 36.

Rysunek przedstawia lonżowanie konia z użyciem

- A. czambonu.
- B. wodzy Pessoa.
- C. podwójnej lonży.
- D. wypinacza trójkątnego.



Zadanie 37.

Wartość tętna u wytrenowanego konia w stanie spoczynku wynosi

- A. 100 – 120 uderzeń/minutę.
- B. 70 – 95 uderzeń/ minutę.
- C. 43 – 65 uderzeń/ minutę.
- D. 28 – 42 uderzeń/ minutę.

Zadanie 38

Urządzenie pokazane na rysunku służy do

- A. osuszania mokrego konia i rozgrzewania mięśni.
- B. monitorowania treningu ujeżdżeniowego konia.
- C. wykonywania diagnostyki obrazowej konia.
- D. wykonywanie zdjęć RTG konia.



Zadanie 39.

Pozycja, którą przybiera koń o prawidłowej technice i dynamice ruchu w czasie skoku nad przeszkodą, charakteryzująca się zaokrąglonym w łuk grzbietem oraz obniżoną szyją konia, to

- A. foule.
- B. bukiet.
- C. baskil.
- D. parabola.

Zadanie 40.

W czasie przejazdu na czworoboku koń wykonał zmianę nogi w galopie z przejściem do stępa i powtórny zagalopowaniem. Jest to zmiana nogi

- A. lotna.
- B. zwykła.
- C. robocza.
- D. pośrednia.