

Nazwa kwalifikacji: **Szkolenie i użytkowanie koni**
Oznaczenie kwalifikacji: **R.20**
Wersja arkusza: **X**

R.20-X-19.06
Czas trwania egzaminu: **60 minut**

EGZAMIN POTWIERDZAJĄCY KWALIFIKACJE W ZAWODZIE
Rok 2019
CZĘŚĆ PISEMNA

Instrukcja dla zdającego

1. Sprawdź, czy arkusz egzaminacyjny zawiera 10 stron. Ewentualny brak stron lub inne usterki zgłoś przewodniczącemu zespołu nadzorującego.
2. Do arkusza dołączona jest KARTA ODPOWIEDZI, na której w oznaczonych miejscach:
 - wpisz oznaczenie kwalifikacji,
 - zamaluj kratkę z oznaczeniem wersji arkusza,
 - wpisz swój numer PESEL*,
 - wpisz swoją datę urodzenia,
 - przyklej naklejkę ze swoim numerem PESEL.
3. Arkusz egzaminacyjny zawiera test składający się z 40 zadań.
4. Za każde poprawnie rozwiązane zadanie możesz uzyskać 1 punkt.
5. Aby zdać część pisemną egzaminu musisz uzyskać co najmniej 20 punktów.
6. Czytaj uważnie wszystkie zadania.
7. Rozwiązania zaznaczaj na KARCIE ODPOWIEDZI długopisem lub piórem z czarnym tuszem/atramentem.
8. Do każdego zadania podane są cztery możliwe odpowiedzi: A, B, C, D. Odpowiada im następujący układ kratek w KARCIE ODPOWIEDZI:

A	B	C	D
---	---	---	---

9. Tylko jedna odpowiedź jest poprawna.
10. Wybierz właściwą odpowiedź i zamaluj kratkę z odpowiadającą jej literą – np., gdy wybrałeś odpowiedź „A”:

<input checked="" type="checkbox"/>	B	C	D
-------------------------------------	---	---	---

11. Staraj się wyraźnie zaznaczać odpowiedzi. Jeżeli się pomylisz i błędnie zaznaczysz odpowiedź, otocz ją kółkiem i zaznacz odpowiedź, którą uważasz za poprawną, np.

<input checked="" type="checkbox"/>	B	C	<input checked="" type="checkbox"/>
-------------------------------------	---	---	-------------------------------------

12. Po rozwiązaniu testu sprawdź, czy zaznaczyłeś wszystkie odpowiedzi na KARCIE ODPOWIEDZI i wprowadziłeś wszystkie dane, o których mowa w punkcie 2 tej instrukcji.

Pamiętaj, że oddajesz przewodniczącemu zespołu nadzorującego tylko KARTĘ ODPOWIEDZI.

Powodzenia!

* w przypadku braku numeru PESEL – seria i numer paszportu lub innego dokumentu potwierdzającego tożsamość

Zadanie 1.

Wskaż cechę wzroku konia, która go **nie dotyczy**.

- A. Pole widzenia wynosi 200°.
- B. Nie oślepia go światło słoneczne.
- C. W nocy widzi dwukrotnie lepiej niż człowiek.
- D. Doskonale widzi ruch nawet drobnych przedmiotów.

Zadanie 2.

Wada ustawienia nadgarstka to

- A. włogaczna.
- B. szpat kostny.
- C. barania noga.
- D. niedźwiedzia łapa.

Zadanie 3.

Najlepszą rasą koni w konkurencji skoki przez przeszkody jest

- A. kuc feliński.
- B. koń lipicański.
- C. American Quarter Horse.
- D. polski koń szlachetny półkrwi.

Zadanie 4.

Konie ras półkrwi zajeżdża się pod siodłem w wieku

- A. 12 miesięcy.
- B. 18 miesięcy.
- C. 3 lat.
- D. 5 lat.

Zadanie 5.

Wysokość przeszkód w konkursie klasy C w skokach przez przeszkody wynosi

- A. 110 cm
- B. 120 cm
- C. 130 cm
- D. 140 cm

Zadanie 6.

Przeszkoda przedstawiona na rysunku to

- A. okser.
- B. stacjonarna.
- C. triplebarre.
- D. doublebarre.



Zadanie 7.

Koń przedstawiony na rysunku został poddany zabiegowi

- A. imprintingu.
- B. odkurzania.
- C. koloryzacji.
- D. strzyżenia.



Zadanie 8.

Który zabieg profilaktyki zdrowia musi być wykonywany u konia co 6-8 tygodni?

- A. Szczepienie przypominające na grypę.
- B. Rozczyszczanie kopyt.
- C. Tarnikowanie zębów.
- D. Odrobaczanie konia.

Zadanie 9.

Ocena pokroju i ruchu 4-letnich koni podczas Mistrzostw Polski Młodych Koni odbywa się na

- A. trójkącie o wymiarach 30x30x30 m.
- B. czworoboku o wymiarach 20x40 m.
- C. prostej ścieżce o długości 40 m.
- D. kole o średnicy 20 m.

Zadanie 10.

Uszkodzenie koronki powstałe w wyniku uderzenia kopytem drugiej nogi to

- A. odsednienie.
- B. spleczenie.
- C. zatrat.
- D. opój.

Zadanie 11.

Przedmiot przedstawiony na rysunku ma między innymi chronić konia przed negatywnymi skutkami

- A. strychowania.
- B. zapoprężenia.
- C. werkowania.
- D. odsednienia.



Zadanie 12.

Widoczną na rysunku zmianę na przedniej nodze konia nazywa się

- A. nakostniakiem.
- B. sarniakiem.
- C. kasztanem.
- D. bukszyną.



Zadanie 13.

W długim okresie czasu w efekcie dobrze prowadzonego treningu wytrzymałościowego konia

- A. jego mocz staje się bardziej mętny.
- B. spada u niego wartość tętna spoczynkowego.
- C. spada ilość erytrocytów w 1mm^3 krwi.
- D. podwyższa się jego temperatura ciała w spoczynku do wartości $38,5^\circ\text{C}$.

Zadanie 14.

Czynność przedstawiona na rysunku ma na celu

- A. poskromienie konia.
- B. naukę akceptacji wędzidła.
- C. wykonanie próby szpatowej.
- D. wprowadzenie konia do przyczepy.



Zadanie 15.

W czasie przygotowywania konia do jazdy konnej wiąże się go do koniowiązu za pomocą

- A. wodzy przypiętych od ogłowia.
- B. uwiązku zawiniętego wokół szyi konia.
- C. uwiązku przypiętego do kantara stajennego.
- D. uwiązku przypiętego do kółek wędzidłowych ogłowia.

Zadanie 16.

Czterotaktowym chodem konia z fazą lotu jest

- A. galop.
- B. cwał.
- C. stęp.
- D. tölt.

Zadanie 17.

Który rodzaj dosiadu stosuje się w czasie przejazdu na parkurze w skokach przez przeszkody?

- A. Półsiad.
- B. Stiplowy.
- C. Fotelowy.
- D. Widłowy.

Zadanie 18.


Wskaż błędnie opisaną i wykonaną czynność jeźdźca w czasie zagalopowania z lewej nogi.

- A. Zwiększa uwagę konia przez wykonanie półparady.
- B. Przesuwa lewą wewnętrzną łydkę na szerokość dłoni za popręg.
- C. Lewą łydkę, leżącą przy popręgu, nadaje impuls do ruchu do przodu.
- D. W momencie zagalopowania jeździec wypuszcza skok galopu do przodu przez lekko ustępujące wodze, zwłaszcza wewnętrzną.

Zadanie 19.

Ćwiczenie ujeżdżeniowe pokazane na rysunku to


- A. oddawanie i nabieranie wodzy.
- B. koń na swobodnej wodzy.
- C. żucie z ręki.
- D. półparada.



Zadanie 20.

Które ćwiczenie ujeżdżeniowe pokazano na rysunku?

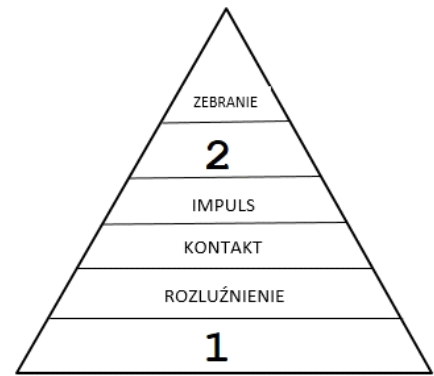
- A. Łopatką do wewnątrz.
- B. Stęp na długiej wodzy.
- C. Stęp na swobodnej wodzy.
- D. Koń postawiony na pomoce.



Zadanie 21.

Brakujące elementy skali szkoleniowej oznaczone cyframi 1 i 2 to

- A. 1 - akceptacja wędzidła, 2 - przepuszczalność.
- B. 1 – przyzwyczajanie, 2 - podstawienie.
- C. 1 – podporządkowanie, 2 - jezdność.
- D. 1 – rytm, 2 - prostowanie.



Zadanie 22.

Rysunek przedstawia siodło

- A. rajdowe.
- B. wojskowe.
- C. westernowe.
- D. ujeżdżeniowe.



Zadanie 23.

Określ przeznaczenie i stopień ostrości kielzna pokazanego na rysunku

- A. Lonżowania koni - działanie bardzo łagodne.
- B. Powożenie zaprzęgiem jednokonnym – działanie łagodne.
- C. Wyścigi kłusaków – działanie ostre.
- D. Prowadzenie w rękę trudnych koni – działanie bardzo ostre.



Zadanie 24.

Rysunek przedstawia konia ubranego w

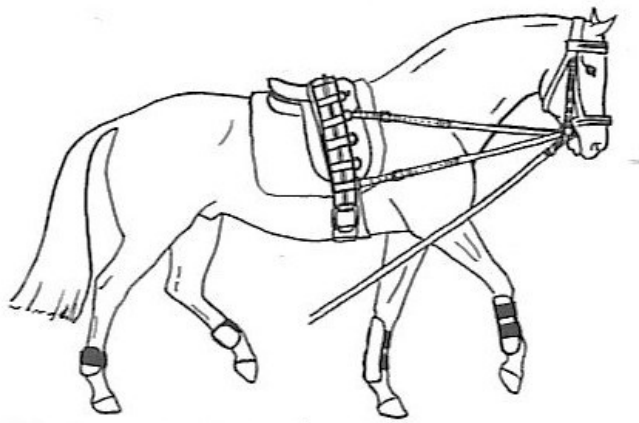
- A. gogue.
- B. kawecan.
- C. chambon.
- D. uździenicę.



Zadanie 25.

Na rysunku przedstawiono konia przygotowanego do lonżowania na

- A. wodzy Pessoa.
- B. podwójnej lonży.
- C. wypinaczu podwójnym.
- D. wypinaczem trójkątnym.



Zadanie 26.

Wskaż brakujący szósty ruch w konkurencji reining.

- 1. Spins
 - 2. Circles
 - 3. Sliding stop
 - 4. Lead change
 - 5. Backup
 - 6. ...?
- A. Backstroake.
 - B. Rollback.
 - C. Pattern.
 - D. Trot.

Zadanie 27.

Element stroju jeźdźca pokazany na rysunku to

- A. sztylpy.
- B. oficerki.
- C. sztyblety.
- D. jodhpury.



Zadanie 28.

Obowiązkowym wyposażeniem każdego jeźdźcy podczas jazdy konnej na otwartym placu, hali treningowej i w czasie wyjazdów w teren jest

- A. telefon komórkowy.
- B. kask ochronny.
- C. zegarek.
- D. palcat.

Zadanie 29.

Na rysunku przedstawiono uprzęż chomątową angielską. Strzałką oznaczono


- A. naszelnik.
- B. chomąto.
- C. szprung.
- D. czek.



Zadanie 30.

Powóz konny przedstawiony na rysunku to

- A. wagonetka.
- B. sulky.
- C. lando.
- D. brek.



Zadanie 31.

Podaj, o ile centymetrów musi być dłuższy krzyżak od lejcy w zaprzęgu parokonnym dla dużych koni, aby konie mogły trzymać głowy równoległe ?

- A. 6 cm
- B. 12 cm
- C. 18 cm
- D. 24 cm



Zadanie 32.

Trzecią pomocą używaną w czasie powożenia przez powożącego oprócz lejcy i bata jest

- A. balans bryczki.
- B. ciężar bryczki.
- C. dyszel.
- D. głos.

Zadanie 33.

Do konserwacji i czyszczenia skórzanych elementów rzędu jeździeckiego używa się mydła

- A. litowego.
- B. potasowego.
- C. toaletowego.
- D. glicerynowego.

Zadanie 34.

Osoba podejmująca się zarobkowego transportu koni na terenie Polski powinna posiadać

- A. uprawnienia instruktora rekreacji ruchowej ze sp. jeździectwo.
- B. Srebrną Odznakę Jeździecką Polskiego Związku Jeździeckiego.
- C. dyplom potwierdzający kwalifikację R.19 Szkolenie i użytkowanie koni.
- D. uprawnienia konwojenta zwierząt wydane przez Powiatowego Lekarza Weterynarii.

Zadanie 35.

Samochód przedstawiony na rysunku służy do przewozu maksymalnie

- A. jednego konia.
- B. dwóch koni.
- C. czterech koni.
- D. pięciu koni.



Zadanie 36.

Uszkodzenie mięśni piersiowych na skutek gwałtownego przemieszczania się mięśni pod ciasno zapiętym poprzęgiem to

- A. zapoprężenie.
- B. odsednienie.
- C. spleczenie.
- D. podbicie.

Zadanie 37.

Który zapis dotyczący zasad pierwszeństwa jazdy na ujeżdżalni **jest nieprawidłowy**?

- A. Jadący wyższym chodem mają pierwszeństwo przed jadącymi niższym chodem.
- B. Jadący na pierwszym śladzie mają pierwszeństwo przed wykonującymi figury.
- C. Jeźdźcy jadący w przeciwnych kierunkach mijają się prawymi rękoma.
- D. Jadący na wprost ma pierwszeństwo przed jadącymi po łuku.

Zadanie 38.

Tradycyjne święto jeźdźców i myśliwych Hubertus przypada

- A. 20 października.
- B. 27 października.
- C. 3 listopada.
- D. 15 listopada.

Zadanie 39.

Rasa koni najlepiej nadająca się do górskiej turystyki konnej dla średniozaawansowanych jeźdźców oznaczona jest skrótem

- A. hc
- B. oo
- C. śl
- D. xx

Zadanie 40.

Stajnia rekreacyjna posiada w stajni 10 koni. Każdy koń pracuje 2 godziny dziennie przez 6 dni w tygodniu. Cena jazdy konnej za godzinę w zastępie wynosi 50 zł. Na podstawie przedstawionych informacji oblicz tygodniowy wpływ do kasy z jazd rekreacyjnych.

- A. 1 000 zł
- B. 3 000 zł
- C. 4 500 zł
- D. 6 000 zł