

Nazwa kwalifikacji: **Organizacja procesów wytwarzania wyrobów odzieżowych**

Oznaczenie kwalifikacji: **A.74**

Wersja arkusza: **X**

A.74-X-19.06

Czas trwania egzaminu: **60 minut**

EGZAMIN POTWIERDZAJĄCY KWALIFIKACJE W ZAWODZIE
Rok 2019
CZĘŚĆ PISEMNA

Instrukcja dla zdającego

1. Sprawdź, czy arkusz egzaminacyjny zawiera 10 stron. Ewentualny brak stron lub inne usterki zgłoś przewodniczącemu zespołu nadzorującego.
2. Do arkusza dołączona jest KARTA ODPOWIEDZI, na której w oznaczonych miejscach:
 - wpisz oznaczenie kwalifikacji,
 - zamaluj kratkę z oznaczeniem wersji arkusza,
 - wpisz swój numer PESEL*,
 - wpisz swoją datę urodzenia,
 - przyklej naklejkę ze swoim numerem PESEL.
3. Arkusz egzaminacyjny zawiera test składający się z 40 zadań.
4. Za każde poprawnie rozwiązane zadanie możesz uzyskać 1 punkt.
5. Aby zdać część pisemną egzaminu musisz uzyskać co najmniej 20 punktów.
6. Czytaj uważnie wszystkie zadania.
7. Rozwiązania zaznaczaj na KARCIE ODPOWIEDZI długopisem lub piórem z czarnym tuszem/atramentem.
8. Do każdego zadania podane są cztery możliwe odpowiedzi: A, B, C, D. Odpowiada im następujący układ kratek w KARCIE ODPOWIEDZI:

A	B	C	D
---	---	---	---

9. Tylko jedna odpowiedź jest poprawna.
10. Wybierz właściwą odpowiedź i zamaluj kratkę z odpowiadającą jej literą – np., gdy wybrałeś odpowiedź „A”:

<input checked="" type="checkbox"/>	B	C	D
-------------------------------------	---	---	---

11. Staraj się wyraźnie zaznaczać odpowiedzi. Jeżeli się pomylisz i błędnie zaznaczysz odpowiedź, otocz ją kółkiem i zaznacz odpowiedź, którą uważasz za poprawną, np.

<input checked="" type="checkbox"/>	B	C	<input checked="" type="checkbox"/>
-------------------------------------	---	---	-------------------------------------

12. Po rozwiązaniu testu sprawdź, czy zaznaczyłeś wszystkie odpowiedzi na KARCIE ODPOWIEDZI i wprowadziłeś wszystkie dane, o których mowa w punkcie 2 tej instrukcji.

Pamiętaj, że oddajesz przewodniczącemu zespołu nadzorującego tylko KARTĘ ODPOWIEDZI.

Powodzenia!

* w przypadku braku numeru PESEL – seria i numer paszportu lub innego dokumentu potwierdzającego tożsamość

Zadanie 1.

Wykończenie pod szyją zastosowane w sukience przedstawionej na rysunku, które dominuje w ubiorach znajdujących się w ofertach sprzedaży, wskazuje na aktualny trend mody, którym jest dekolot

- A. karo.
- B. owalny.
- C. okrągły.
- D. łódkowy.



Zadanie 2.

Które elementy dokumentacji technicznej poza zestawieniem konstrukcyjnych części składowych wyrobu odzieżowego stanowią opisową jej część?

- A. Opis ogólny, wymagania techniczne, opis obróbki technologicznej.
- B. Wymagania techniczne, tabela wymiarów, układy szablonów.
- C. Rysunek modelowy, rysunek techniczny, opis ogólny.
- D. Rysunek techniczny, tabela wymiarów, szablony.

Zadanie 3.

Przygotowanie materiałów odzieżowych do produkcji **nie obejmuje**

- A. kontroli jakości materiałów.
- B. kontroli szerokości materiału.
- C. pomiaru długości materiału w beli.
- D. nadawania materiałom stopni jakości.

Zadanie 4.

Rysunek układu szablonów wykonany przy pomocy komputerowego systemu przygotowania produkcji można wydrukować za pomocą plotera, a następnie przykleić na górną warstwę utworzonego nakładu materiałów albo zapisać na odpowiednim nośniku i zapis wykorzystać do rozkroju

- A. automatycznego.
- B. tradycyjnego z nakładu.
- C. tradycyjnego z jednej warstwy.
- D. z zastosowaniem servo cutterów.

Zadanie 5.

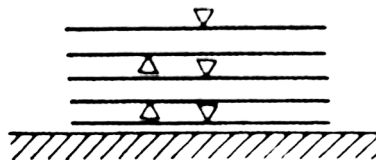
Który rodzaj warstwowania jest najbardziej ekonomiczny dla gładkiej jednobarwej tkaniny?

- A. Zygzakowy bez odcinania końców.
- B. Zygzakowy z odcinanymi końcami.
- C. Stroną prawą do lewej z odcinanymi końcami.
- D. Stroną prawą do prawej bez odcinania końców.

Zadanie 6.

Na rysunku przedstawione jest warstwowanie

- A. wahadłowe.
- B. przemienne.
- C. zygzakowe.
- D. jednostronne.



Zadanie 7.

Dla dzianiny o gładkiej powierzchni powlekanej po spodniej stronie przygotowuje się układ szablonów

- A. wielokierunkowy.
- B. jednokierunkowy.
- C. dwukierunkowy.
- D. mieszany.

Zadanie 8.

Które z czynności należy wykonać w krojowni przed rozkrojem nakładu?

- A. Odrysowywanie szablonów, układanie szablonów.
- B. Wykrawanie wykrojów, dzielenie nakładu na sekcje.
- C. Warstwowanie materiału, przygotowanie układu szablonów.
- D. Przygotowanie nakładu, naniesienie rysunku układu szablonów.

Zadanie 9.

Wykrojniki stosuje się do wycinania elementów wyrobów z

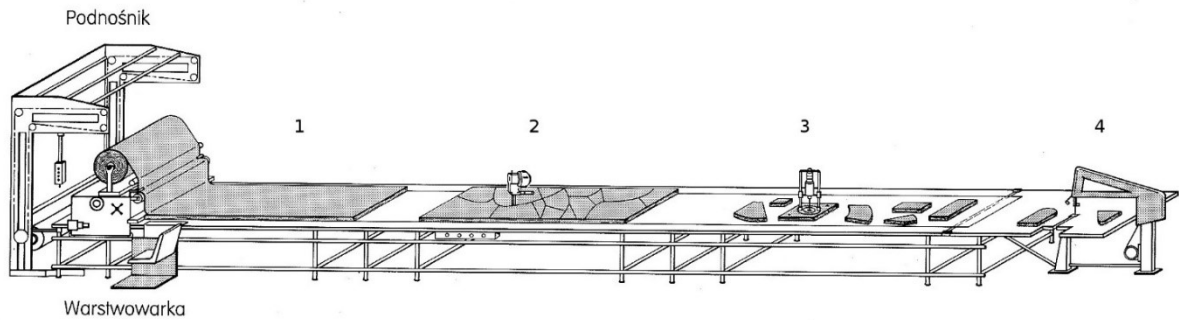
- A. dzianin.
- B. laminatów.
- C. futer sztucznych.
- D. wkładów klejowych.

Zadanie 10.

Do rozkroju na sekcje wielowarstwowego nakładu materiałów stosuje się krajarki przenośne z nożem

- A. bagnetowym.
- B. tarczowym.
- C. taśmowym.
- D. pionowym.

Zadanie 11.



W której strefie ciągu krojczego przedstawionego na rysunku są oznaczane na wykrojach wewnętrzne punkty spotkań?

- A. W 1 strefie.
- B. W 2 strefie.
- C. W 3 strefie.
- D. W 4 strefie.

Zadanie 12.

Wskaż czynność wykonywaną w pierwszym etapie procesu rozkroju nakładu materiału.

- A. Rozkrój nakładu na sekcje.
- B. Kompletowanie wykrojów.
- C. Znakowanie wykrojonych elementów.
- D. Układanie szablonów na wierzchniej warstwie nakładu.

Zadanie 13.

Którą technikę klejenia stosuje się do wzmocnienia wyłogów i obłożeń w przodach żakietów damskich?

- A. Klejowych wkładów konstrukcyjnych.
- B. Wkładów sztywnikowych.
- C. Wielkopowierzchniową.
- D. Małych wklejek.

Zadanie 14.

Znak jakości w wyrobom odzieżowym nadają brakarze podczas kontroli

- A. międzyoperacyjnej w szwalni.
- B. końcowej wyrobów gotowych.
- C. ostatecznej gotowych wyrobów.
- D. międzyoperacyjnej w wykończalni.

Zadanie 15.

Do wykonania ozdobnych pętelek w przedstawionym na rysunku przodzie bluzki zastosowano

- A. ruloniki.
- B. falbany.
- C. taśmę.
- D. plisy.



Zadanie 16.

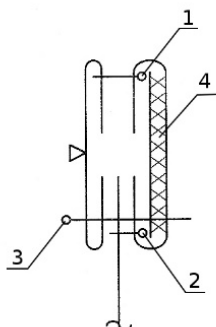
Która z metod organizacji produkcji może być stosowana w krótkoseryjnej produkcji wyrobów odzieżowych?

- A. Tylko grupowa.
- B. Tylko potokowa.
- C. Grupowa i potokowa.
- D. Indywidualna i grupowa.

Zadanie 17.

Którą cyfrą oznaczono na przedstawionym rysunku pierwszy do wykonania zabieg łączenia nitkowego dwóch elementów?

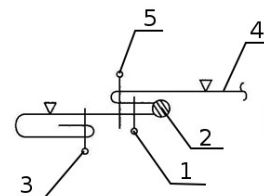
- A. 1
- B. 2
- C. 3
- D. 4



Zadanie 18.

Które z cyfr zamieszczonych na przedstawionym rysunku instruktażowym dotyczą zabiegów doszycia falbany, np. do dołu spódnicy?

- A. 1 i 2
- B. 1 i 3
- C. 1 i 4
- D. 1 i 5



Zadanie 19.

Na której z maszyn można wykonać zdobienie przedstawione na rysunku?

- A. Hafciarce.
- B. Kroszecie.
- C. Renderówce.
- D. Zygzakówce.



Zadanie 20.

Urządzenie przedstawione na rysunku jest stosowane do oznaczania na wykrojach

- A. nacięć montażowych.
- B. kierunku nitki osnowy.
- C. zewnętrznych punktów spotkań.
- D. wewnętrznych punktów, np. naszycia elementów.



Zadanie 21.

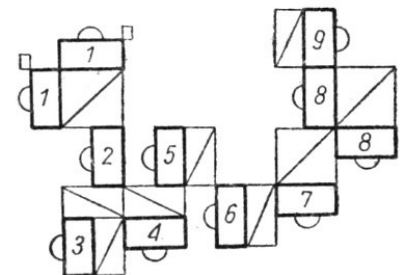
Do numerowania wykrojów w przedsiębiorstwie odzieżowym stosuje się

- A. kredę.
- B. wycinak.
- C. numerator.
- D. pisak do tkanin.

Zadanie 22.

Który system organizacji produkcji charakteryzuje układ stanowisk przedstawiony na rysunku?

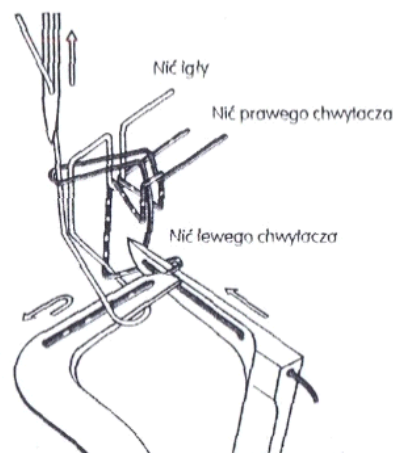
- A. Synchron.
- B. Taśmowy.
- C. Taśmowo-sekcyjny.
- D. Potok z synchronizowanymi grupami obróbczymi.



Zadanie 23.

Tworzenie którego ze ściegów nitkowych przedstawiono na rysunku?

- A. Zygzakowego.
- B. Obrzucającego.
- C. Pokrywającego.
- D. Łańcuszkowego.



Zadanie 24.

Którą maszynę można stosować do przyszywania przedstawionych na rysunku haftek do paska spódnicy?

- A. Łączarkę.
- B. Guzikarkę.
- C. Szczepiarkę.
- D. Fastrygówkę.



Zadanie 25.

Które urządzenie prasowalnicze jest przeznaczone do prasowania przodów marynarek?

- A. Manekin prasowalniczy.
- B. Maszyna uniwersalna.
- C. Agregat tunelowy.
- D. Prasa formująca.

Zadanie 26.

Resztkę nieracjonalną, która ma powstać podczas tworzenia nakładu,

- A. odcina się od ostatniej warstwy nakładu.
- B. odcina się od pierwszej warstwy nakładu.
- C. pozostawia się nie odciętą, razem z ostatnią warstwą nakładu.
- D. pozostawia się nie odciętą, razem z pierwszą warstwą nakładu.

Zadanie 27.

Przeñośniki ślizgowe należą do grupy

- A. podnośników jezdnych.
- B. stojaków transportowych.
- C. pochylni międzypiętrowej.
- D. mechanicznych urządzeń transportowych.

Zadanie 28.

Straty materiałowe powstałe w krojowni związane z nierównomiernością na szerokości i długości poszczególnych warstw materiału w nakładzie to

- A. ścinki materiału.
- B. resztki materiału.
- C. wypadki zewnętrzne.
- D. wypadki wewnętrzne.

Zadanie 29.

Które prasy są najczęściej stosowane w produkcji konfekcyjnej do prasowania wyrobów odzieżowych?

- A. Elektryczno-parowe.
- B. Pneumatyczne.
- C. Elektryczne.
- D. Parowe.

Zadanie 30.

Bluzka przedstawiona na rysunku, zaprojektowana jest zgodnie z trendem, na który wskazują rękawy

- A. długie, dopasowane.
- B. o długości $\frac{3}{4}$ typu bufka.
- C. z doszywanymi falbankami.
- D. koszulowe zakończone mankietem.



Zadanie 31.

Zastosowanie automatycznych systemów produkcji wykrojów zapewniających przepływ informacji pomiędzy kolejnymi fazami technologicznymi realizowanymi w dziale przygotowania produkcji i krojowni, umożliwia

- A. stopniowanie szablonów.
- B. projektowanie wzorów odzieży.
- C. opracowanie układu szablonów.
- D. automatyczne formowanie i rozkrój nakładu.

Zadanie 32.

Układ szablonów asymetryczny, jednokierunkowy zawiera

- A. szablony elementów asymetrycznych i symetrycznych wyrobu odzieżowego o fasonie asymetrycznym, ułożone w jednym kierunku.
- B. połowy elementów kompletu szablonów wyrobu odzieżowego jednego rozmiaru.
- C. wszystkie elementy kompletu szablonów wyrobu odzieżowego.
- D. komplet szablonów wyrobu odzieżowego kilku rozmiarów.

Zadanie 33.

Do badań marketingowych opartych na danych wtórnych stosuje się informacje pochodzące

- A. z wywiadów.
- B. z obserwacji.
- C. z badań ankietowych.
- D. z danych statystycznych.

Zadanie 34.

Który instrument marketingu stosuje się w celu informowania klientów o cechach wyrobu odzieżowego?

- A. Dystrybucję.
- B. Promocję.
- C. Produkt.
- D. Cenę.

Zadanie 35.

Na których pokazach mody prezentowane są kolekcje luksusowych, wykonywanych na indywidualne zamówienie klienta, jedynych w swoim rodzaju wyrobów odzieżowych?

- A. Resort.
- B. Pre-fall.
- C. Prêt-à-porter.
- D. Haute couture.

Zadanie 36.

Który z wymienionych czynników **nie ma wpływu** na obsługę logistyczną firm odzieżowych?

- A. Rozproszenie punktów dostaw.
- B. Ściśle określone godziny dostaw.
- C. Określona temperatura transportu.
- D. Duże wahania popytu w ciągu roku.

Zadanie 37.

Do klienta należy dostarczyć partię 196 szt. ekskluzywnych wyrobów odzieżowych na wieszakach. Z oferty firmy logistycznej wynika, że jednorazowo mogą przewieźć 4 wieszaki stojące, na których zmieści się 28 wieszaków z wyrobami. Jaki będzie koszt przewozu towarów, jeżeli 1 kurs wraz załadunkiem i rozładunkiem wyniesie 48,00 zł?

- A. 238,00 zł
- B. 336,00 zł
- C. 386,00 zł
- D. 396,00 zł

Zadanie 38.

Które narzędzie oddziaływania na zmysły klienta **nie należy** do Visual merchandisingu?

- A. Kolor.
- B. Witryna.
- C. Degustacja.
- D. Oświetlenie.

Zadanie 39.

Najważniejszym elementem strony www sklepu internetowego jest informacja dotycząca

- A. godzin otwarcia.
- B. oferty handlowej.
- C. kontaktu z biurem obsługi.
- D. lokalizacji sklepu stacjonarnego.

Zadanie 40.

Który rodzaj dress code określa najbardziej swobodny styl ubioru do pracy?

- A. Business attire.
- B. Business smart.
- C. Business casual.
- D. Business active.