

WYPEŁNIA UCZEŃ

KOD UCZNI

--	--	--

PESEL

--	--	--	--	--	--	--	--	--	--	--	--

Miejsce na naklejkę.
Sprawdź, czy kod na naklejce to
O-100.

Jeżeli tak – przyklej naklejkę.
Jeżeli nie – zgłoś to nauczycielowi.



Egzamin ósmoklasisty

Matematyka

TEST DIAGNOSTYCZNY

DATA: marzec 2021 r.

CZAS PRACY: 100 minut

Instrukcja dla ucznia

1. Sprawdź, czy na kolejno ponumerowanych **18 stronach** jest wydrukowanych **19 zadań**.
2. Sprawdź, czy do arkusza jest dołączona karta odpowiedzi.
3. Ewentualny brak stron lub inne usterki zgłoś nauczycielowi.
4. Na tej stronie, na karcie rozwiązań zadań i na karcie odpowiedzi w wyznaczonych miejscach wpisz swój kod, numer PESEL i przyklej naklejkę z kodem.
5. Czytaj uważnie wszystkie teksty i zadania. Wykonuj zadania zgodnie z poleceniami.
6. Rozwiązania zadań zapisuj długopisem lub piórem z czarnym tuszem/atramentem.
7. Nie używaj korektora.
8. Rozwiązania zadań **zamkniętych**, tj. **1–15**, zaznacz na karcie odpowiedzi zgodnie z instrukcją zamieszczoną na następnej stronie. W każdym zadaniu poprawna jest zawsze **tylko jedna** odpowiedź.
9. Rozwiązania zadań **otwartych**, tj. **16–19**, zapisz czytelnie i starannie w wyznaczonych miejscach w arkuszu egzaminacyjnym. Ewentualne poprawki w odpowiedziach zapisz zgodnie z instrukcjami zamieszczonymi na następnej stronie.
10. Zapisy w brudnopisie nie będą sprawdzane i oceniane.

Powodzenia!

WYPEŁNIA ZESPÓŁ NADZORUJĄCY

Uprawnienia
ucznia do:

nieprzenoszenia odpowiedzi
na kartę odpowiedzi

dostosowania
zasad oceniania.



OMAP-100-2103

Zapoznaj się z poniższymi instrukcjami

1. Jak na karcie odpowiedzi zaznaczyć poprawną odpowiedź oraz pomyłkę w zadaniach zamkniętych?

Staraj się nie popełniać błędów przy zaznaczaniu odpowiedzi, ale jeśli się pomylisz, błędne zaznaczenie otocz kółkiem i zaznacz inną odpowiedź, np.



Poprawna odpowiedź w zadaniu	Układ możliwych odpowiedzi na karcie odpowiedzi	Sposób zaznaczenia poprawnej odpowiedzi	Sposób zaznaczenia pomyłki i poprawnej odpowiedzi
C	<input type="checkbox"/> A <input type="checkbox"/> B <input type="checkbox"/> C <input type="checkbox"/> D	<input type="checkbox"/> A <input type="checkbox"/> B <input checked="" type="checkbox"/> C <input type="checkbox"/> D	<input type="checkbox"/> A <input checked="" type="checkbox"/> B <input checked="" type="checkbox"/> C <input type="checkbox"/> D
AD	<input type="checkbox"/> AC <input type="checkbox"/> AD <input type="checkbox"/> BC <input type="checkbox"/> BD	<input type="checkbox"/> AC <input checked="" type="checkbox"/> B <input type="checkbox"/> BC <input type="checkbox"/> BD	<input type="checkbox"/> AC <input checked="" type="checkbox"/> B <input checked="" type="checkbox"/> C <input type="checkbox"/> BD
FP	<input type="checkbox"/> PP <input type="checkbox"/> PF <input type="checkbox"/> FF <input type="checkbox"/> FF	<input type="checkbox"/> PP <input type="checkbox"/> PF <input checked="" type="checkbox"/> C <input type="checkbox"/> FF	<input type="checkbox"/> PP <input checked="" type="checkbox"/> B <input checked="" type="checkbox"/> C <input type="checkbox"/> FF

2. Jak zaznaczyć pomyłkę i zapisać poprawną odpowiedź w zadaniach otwartych?

Jeśli się pomylisz, zapisując odpowiedź w zadaniu otwartym, pomyłkę przekreśl i napisz poprawną odpowiedź, np.

nad niepoprawnym fragmentem

64 cm²

Pole kwadratu jest równe ~~100 cm²~~.

lub obok niego

Pole kwadratu jest równe ~~100 cm²~~ 64 cm²

Zadania egzaminacyjne są wydrukowane na kolejnych stronach.

Zadanie 1. (0–1)

W szkole Adama w gazetce szkolnej ukazał się artykuł, dotyczący wyboru przez ósmoklasistów szkoły ponadpodstawowej.



Poniżej zapisano trzy prawdziwe informacje.


- I. Ankietę oddało łącznie 150 uczniów.
- II. W ankiecie wzięli udział wszyscy uczniowie klas ósmych.
- III. Łącznie mniej niż połowa uczniów biorących udział w ankiecie zamierza kontynuować naukę w technikum lub w branżowej szkole.

Które z informacji – I, II, III – wynikają z analizy danych zamieszczonych w treści artykułu? Wybierz właściwą odpowiedź spośród podanych.

- A. Tylko I i II. B. Tylko I i III. C. Tylko II i III. D. Wszystkie – I, II i III.

PRZENIEŚ ROZWIĄZANIA ZADAŃ NA KARTĘ ODPOWIEDZI!

Brudnopis



Zadanie 2. (0–1)

Piłki tenisowe zapakowano do 186 jednakowych pudełek. Do każdego z tych pudełek włożono po 6 piłek.

Oceń prawdziwość podanych zdań. Wybierz P, jeśli zdanie jest prawdziwe, albo F – jeśli jest fałszywe.

Liczba wszystkich spakowanych piłek jest podzielna przez 4.	P	F
Wszystkie te piłki można byłoby spakować do większych pudełek – po 9 piłek w każdym.	P	F

Zadanie 3. (0–1)

Która z poniższych nierówności jest prawdziwa? Wybierz właściwą odpowiedź spośród podanych.

A. $\frac{25}{9} < \frac{23}{9}$

B. $\frac{5}{4} + \frac{5}{2} > 4$

C. $\frac{13}{17} \cdot 3 > \frac{39}{17}$

D. $\frac{11}{12} > \frac{11}{13}$

Zadanie 4. (0–1)

Dane są trzy wyrażenia:

I. $6 \cdot 1\frac{2}{3}$

II. $6 : 1,2$

III. $7,25 - 2\frac{1}{4}$

Dokończ zdanie. Wybierz właściwą odpowiedź spośród podanych.

Liczbami całkowitymi są wartości wyrażeń

A. I, II i III.

B. Tylko I i II.

C. Tylko II i III.

D. Tylko I i III.

Zadanie 5. (0–1)

Asia wzięła udział w zajęciach teatralnych. Zajęcia składały się z 2 części. Każda część trwała tyle samo minut. Pomiędzy pierwszą a drugą częścią była 10-minutowa przerwa. Zajęcia rozpoczęły się o godzinie 17:45, a zakończyły o godzinie 19:05.

Dokończ zdanie. Wybierz właściwą odpowiedź spośród podanych.

Druga część zajęć rozpoczęła się o godzinie

A. 18:20


B. 18:25

C. 18:30

D. 18:35

PRZENIEŚ ROZWIĄZANIA ZADAŃ NA KARTĘ ODPOWIEDZI!

Brudnopis



Zadanie 6. (0–1)

Cenę laptopa obniżono najpierw o 15%, a później o 150 zł. Po obu obniżkach laptop kosztuje 2400 zł.

Oceń prawdziwość podanych zdań. Wybierz P, jeśli zdanie jest prawdziwe, albo F – jeśli jest fałszywe.

Przed tymi dwoma obniżkami laptop kosztował 3000 zł.	P	F
Po obu obniżkach cena laptopa stanowi 85% ceny początkowej.	P	F

Zadanie 7. (0–1)

Dokończ zdanie. Wybierz właściwą odpowiedź spośród podanych.

Wartość wyrażenia $\frac{6^8}{2^4}$ jest równa

A. 3^2

B. 3^4

C. $2^2 \cdot 3^8$

D. $2^4 \cdot 3^8$

Zadanie 8. (0–1)

Uzupełnij zdania. Wybierz odpowiedź spośród oznaczonych literami A i B oraz odpowiedź spośród oznaczonych literami C i D.

Wartość wyrażenia $\sqrt{1 + \frac{25}{144}}$ jest równa . A. $1\frac{5}{12}$ B. $1\frac{1}{12}$

Wartość wyrażenia $\sqrt[3]{3 + \frac{3}{8}}$ jest równa . C. $1\frac{1}{2}$ D. $1\frac{1}{8}$

Zadanie 9. (0–1)


Na festyn przygotowano loterię, w której było 120 losów, w tym 80 wygrywających. Przed rozpoczęciem festynu dołożono jeszcze 20 losów wygrywających i 20 przegrywających.

Czy prawdopodobieństwo wyciągnięcia losu wygrywającego w tej loterii zmieniło się po dołożeniu losów? Wybierz odpowiedź A albo B i jej uzasadnienie spośród 1., 2. albo 3.

A.	Tak,	ponieważ	1.	różnica liczby losów wygrywających i przegrywających po dołożeniu losów jest taka sama jak na początku.
			2.	dołożono tyle samo losów wygrywających co przegrywających.
B.	Nie,		3.	zmienił się stosunek liczby losów wygrywających do liczby wszystkich losów.

PRZENIEŚ ROZWIĄZANIA ZADAŃ NA KARTĘ ODPOWIEDZI!

Brudnopis



Zadanie 10. (0–1)

Zależność między liczbą przekątnych (k) a liczbą boków (n) wielokąta wypukłego określa wzór

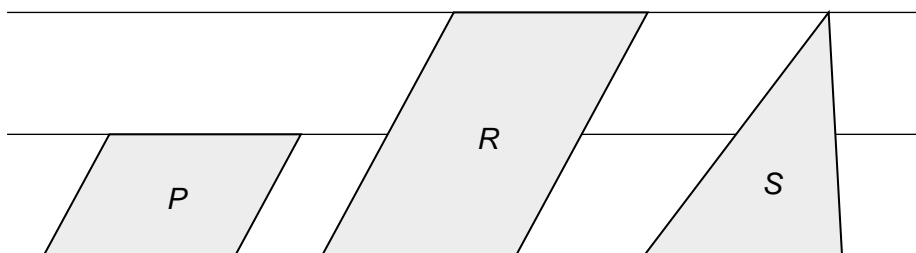
$$k = \frac{n(n-3)}{2}.$$

Oceń prawdziwość podanych zdań. Wybierz P, jeśli zdanie jest prawdziwe, albo F – jeśli jest fałszywe.

Liczba przekątnych w dwunastokącie wypukłym jest <u>trzy razy większa</u> od liczby przekątnych w czworokącie wypukłym.	P	F
Liczba przekątnych w ośmiokącie wypukłym jest <u>o 11 większa</u> od liczby przekątnych w sześciokącie wypukłym.	P	F

Zadanie 11. (0–1)

W zeszycie w linie narysowano dwa równoległoboki i trójkąt w sposób pokazany na rysunku. Odległości między sąsiednimi liniami są jednakowe. Podstawy wszystkich tych figur mają taką samą długość. Pole równoległoboku P jest równe 4.



Oceń prawdziwość podanych zdań. Wybierz P, jeśli zdanie jest prawdziwe, albo F – jeśli jest fałszywe.

Pole równoległoboku R jest równe 8.	P	F
Pole trójkąta S jest równe 4.	P	F

Zadanie 12. (0–1)

W trójkącie stosunek miar kątów jest równy 2 : 3 : 7.


Dokończ zdanie. Wybierz właściwą odpowiedź spośród podanych.

Trójkąt o podanych własnościach jest

- A. rozwartokątny. B. prostokątny. C. ostrokątny. D. równoramienny.


PRZENIEŚ ROZWIĄZANIA ZADAŃ NA KARTĘ ODPOWIEDZI!

Brudnopis



Zadanie 13. (0–1)

Prostokąt $ABCD$ podzielono odcinkiem EF na dwa prostokąty. Odcinek EF ma długość 11 cm, a odcinek ED ma długość 2 cm. Pole prostokąta $EFCD$ stanowi $\frac{2}{7}$ pola prostokąta $ABCD$.



Oceń prawdziwość podanych zdań. Wybierz P, jeśli zdanie jest prawdziwe, albo F – jeśli jest fałszywe.

Pole prostokąta $ABCD$ jest równe 77 cm^2 .	P	F
Odcinek AE ma długość 7 cm.	P	F

Zadanie 14. (0–1)

Bok rombu ma długość 17 cm, a jedna z jego przekątnych ma długość 30 cm.

Dokończ zdanie. Wybierz właściwą odpowiedź spośród podanych.

Pole tego rombu jest równe

- A. 120 cm^2 B. 240 cm^2 C. 255 cm^2 D. 480 cm^2

Zadanie 15. (0–1)

Dwa sześciany – jeden o krawędzi 2 i drugi o krawędzi 3 – pocięto na sześciany o krawędzi 1. Z otrzymanych sześcianów zbudowano prostopadłościan. Żadna ściana tego prostopadłościanu nie jest kwadratem.


Dokończ zdanie. Wybierz właściwą odpowiedź spośród podanych.

Pole powierzchni zbudowanego prostopadłościanu jest równe

- A. 35 B. 47 C. 94 D. 142


PRZENIEŚ ROZWIĄZANIA ZADAŃ NA KARTĘ ODPOWIEDZI!

Brudnopis




Zadanie 16. (0–2)

Pewną kwotę rozdzielono na trzy nagrody pieniężne. Marcin dostał 2 razy więcej pieniędzy niż Jędrrek, a Kamil 2 razy mniej niż Jędrrek. Uzasadnij, że Kamil otrzymał $\frac{1}{7}$ tej kwoty.



Zadanie 18. (0–2)

W kwiaciarni było trzy razy więcej czerwonych róż niż białych. Pan Nowak kupił 40 czerwonych róż i wtedy w kwiaciarni zostało dwa razy więcej białych róż niż czerwonych. Ile białych róż było w kwiaciarni? Zapisz obliczenia.



Brudnopis

