

**WYPEŁNIA UCZEŃ**

KOD UCZNI

--	--	--

PESEL

--	--	--	--	--	--	--	--	--	--

**Miejsce na naklejkę.**  
Sprawdź, czy kod na naklejce to  
**O-C00**.  
Jeżeli tak – przyklej naklejkę.  
Jeżeli nie – zgłoś to nauczycielowi.



# Egzamin ósmoklasisty

## Matematyka

DATA: **26 maja 2021 r.**

GODZINA ROZPOCZĘCIA: **9:00**

CZAS PRACY: **100 minut**

### Instrukcja dla ucznia

Czas może być przedłużony  
zgodnie z przyznanym dostosowaniem.

1. Sprawdź, czy na kolejno ponumerowanych **18 stronach** jest wydrukowanych **19 zadań**.
2. Sprawdź, czy do arkusza jest dołączona karta odpowiedzi.
3. Ewentualny brak stron lub inne usterki zgłoś nauczycielowi.
4. Na tej stronie i na karcie odpowiedzi w wyznaczonych miejscach wpisz swój kod, numer PESEL i przyklej naklejkę z kodem.
5. Czytaj uważnie wszystkie teksty i zadania. Wykonuj zadania zgodnie z poleceniami.
6. Rozwiązania zadań zapisuj długopisem lub piórem z czarnym tuszem/atramentem.
7. Nie używaj korektora.
8. Rozwiązania zadań **zamkniętych**, tj. **1–15**, zaznacz na karcie odpowiedzi zgodnie z instrukcją zamieszczoną na następnej stronie. W każdym zadaniu poprawna jest zawsze **tylko jedna** odpowiedź.
9. Rozwiązania zadań **otwartych**, tj. **16–19**, zapisz czytelnie i starannie w wyznaczonych miejscach w arkuszu egzaminacyjnym. Ewentualne poprawki w odpowiedziach zapisz zgodnie z instrukcjami zamieszczonymi na następnej stronie.
10. Zapisy w brudnopisie nie będą sprawdzane i oceniane.

**Powodzenia!**

**WYPEŁNIA ZESPÓŁ NADZORUJĄCY**

Uprawnienia  
ucznia do:

nieprzenoszenia odpowiedzi  
na kartę odpowiedzi

dostosowania  
zasad oceniania.

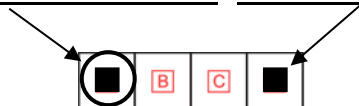


OMAP-**C00**-2105

## Zapoznaj się z poniższymi instrukcjami

### 1. Jak na karcie odpowiedzi zaznaczyć poprawną odpowiedź oraz pomyłkę w zadaniach zamkniętych?

Staraj się nie popełniać błędów przy zaznaczaniu odpowiedzi, ale jeśli się pomylisz, błędne zaznaczenie otocz kółkiem i zaznacz inną odpowiedź, np.



Poprawna odpowiedź w zadaniu	Układ możliwych odpowiedzi na karcie odpowiedzi	Sposób zaznaczenia <u>poprawnej</u> odpowiedzi	Sposób zaznaczenia <u>pomyłki</u> i poprawnej odpowiedzi												
<b>C</b>	<table border="1"><tr><td>A</td><td>B</td><td>C</td><td>D</td></tr></table>	A	B	C	D	<table border="1"><tr><td>A</td><td>B</td><td>■</td><td>D</td></tr></table>	A	B	■	D	<table border="1"><tr><td>A</td><td>⊙</td><td>■</td><td>D</td></tr></table>	A	⊙	■	D
A	B	C	D												
A	B	■	D												
A	⊙	■	D												
<b>AD</b>	<table border="1"><tr><td>AC</td><td>AD</td><td>BC</td><td>BD</td></tr></table>	AC	AD	BC	BD	<table border="1"><tr><td>AC</td><td>■</td><td>BC</td><td>BD</td></tr></table>	AC	■	BC	BD	<table border="1"><tr><td>AC</td><td>■</td><td>⊙</td><td>BD</td></tr></table>	AC	■	⊙	BD
AC	AD	BC	BD												
AC	■	BC	BD												
AC	■	⊙	BD												
<b>FP</b>	<table border="1"><tr><td>PP</td><td>PF</td><td>FF</td><td>FF</td></tr></table>	PP	PF	FF	FF	<table border="1"><tr><td>PP</td><td>PF</td><td>■</td><td>FF</td></tr></table>	PP	PF	■	FF	<table border="1"><tr><td>PP</td><td>⊙</td><td>■</td><td>FF</td></tr></table>	PP	⊙	■	FF
PP	PF	FF	FF												
PP	PF	■	FF												
PP	⊙	■	FF												

### 2. Jak zaznaczyć pomyłkę i zapisać poprawną odpowiedź w zadaniach otwartych?

Jeśli się pomylisz, zapisując odpowiedź w zadaniu otwartym, pomyłkę przekreśl i napisz poprawną odpowiedź, np.

nad niepoprawnym fragmentem

*64 cm<sup>2</sup>*

*Pole kwadratu jest równe ~~100 cm<sup>2</sup>~~.*

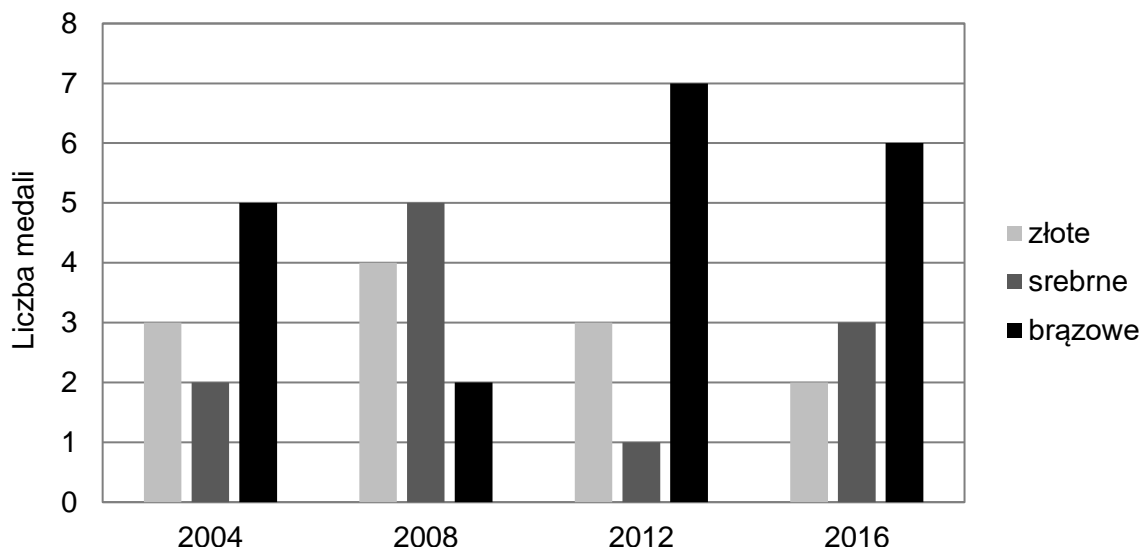
lub obok niego

*Pole kwadratu jest równe ~~100 cm<sup>2</sup>~~ 64 cm<sup>2</sup>*

**Zadania egzaminacyjne są wydrukowane na kolejnych stronach.**

**Zadanie 1. (0–1)**

Na diagramie słupkowym przedstawiono liczby medali zdobytych na czterech letnich igrzyskach olimpijskich przez reprezentację Polski.



Oceń prawdziwość podanych zdań, dotyczących medali zdobytych przez reprezentację Polski podczas letnich igrzysk olimpijskich w latach 2004–2016. Wybierz P, jeśli zdanie jest prawdziwe, albo F – jeśli jest fałszywe.

Liczba zdobytych złotych medali stanowi więcej niż jedną trzecią liczby wszystkich zdobytych medali.	P	F
Podczas letnich igrzysk olimpijskich średnio zdobywano 3 złote medale.	P	F

**Zadanie 2. (0–1)**

Dane są cztery liczby  $x$ ,  $y$ ,  $t$ ,  $u$  zapisane za pomocą wyrażeń arytmetycznych:

$$x = -62,5 + 30 \quad y = -14,4 - 12,6 \quad t = -12 : 0,3 \quad u = -8,02 \cdot 6$$

Która z tych liczb jest największa? Wybierz właściwą odpowiedź spośród podanych.

- A.  $x$                       B.  $y$                       C.  $t$                       D.  $u$

**Zadanie 3. (0–1)**


Uzupełnij zdania. Wybierz odpowiedź spośród oznaczonych literami A i B oraz odpowiedź spośród oznaczonych literami C i D.

Wartość wyrażenia  $\frac{3}{7} + \frac{3}{5}$  jest liczbą   .                      A. mniejszą od 1    B. większą od 1

Wartość wyrażenia  $\frac{3}{7} - \frac{3}{5}$  jest liczbą   .                      C. ujemną                      D. dodatnią

**PRZENIEŚ ROZWIĄZANIA ZADAŃ NA KARTĘ ODPOWIEDZI!**

**Brudnopis**



**Zadanie 4. (0–1)**

Z reguł działań na potęgach wynika, że:

$$(200\ 000)^3 = (2 \cdot 100\ 000)^3 = (2 \cdot 10^5)^3 = 2^3 \cdot 10^{15}$$

**Dokończ zdanie. Wybierz właściwą odpowiedź spośród podanych.**

Z tych samych reguł wynika, że liczba  $(60\ 000\ 000)^3$  jest równa

- A.  $6^3 \cdot 10^{21}$       B.  $6 \cdot 10^{21}$       C.  $6^3 \cdot 10^{10}$       D.  $6 \cdot 10^{10}$

**Zadanie 5. (0–1)**

**Czy iloczyn dowolnych pięciu kolejnych liczb całkowitych jest podzielny przez 10? Wybierz odpowiedź A albo B i jej uzasadnienie spośród 1., 2. albo 3.**

A.	Tak,	ponieważ wśród dowolnych pięciu kolejnych liczb całkowitych	1.	nie musi znajdować się liczba podzielna przez 10.
			2.	jest co najmniej jedna liczba nieparzysta i co najmniej jedna liczba parzysta.
B.	Nie,		3.	jest co najmniej jedna liczba podzielna przez 5 i co najmniej jedna liczba parzysta.

**Zadanie 6. (0–1)**

Cena 1 kilograma pomidorów jest o 25% wyższa od ceny 1 kilograma ogórków.

**Uzupełnij zdania. Wybierz odpowiedź spośród oznaczonych literami A i B oraz odpowiedź spośród oznaczonych literami C i D.**

Cena 1 kilograma ogórków stanowi   ceny 1 kilograma pomidorów.


- A.  $\frac{4}{5}$       B.  $\frac{3}{4}$

Różnica obu cen stanowi  $\frac{1}{4}$  ceny 1 kilograma  .

- C. ogórków      D. pomidorów

**PRZENIEŚ ROZWIĄZANIA ZADAŃ NA KARTĘ ODPOWIEDZI!**

**Brudnopis**



**Zadanie 7. (0–1)**

Do liczby  $(-\sqrt{10})$  dodajemy 5.

**Dokończ zdanie. Wybierz właściwą odpowiedź spośród podanych.**

Otrzymany wynik jest liczbą

- A. większą od 1.
- B. dodatnią mniejszą od 1.
- C. mniejszą od  $(-8)$ .
- D. ujemną większą od  $(-8)$ .

**Informacje do zadań 8. i 9.**

Trójki liczb naturalnych  $a$ ,  $b$  i  $c$ , które spełniają warunek  $a^2 + b^2 = c^2$ , nazywamy trójkami pitagorejskimi. Niektóre z nich znajdujemy z wykorzystaniem wzorów:

$$a = 2n + 1 \qquad b = 2n(n + 1) \qquad c = 2n^2 + 2n + 1,$$

gdzie  $n$  oznacza dowolną liczbę naturalną ( $n \geq 1$ ). W zadaniach 8. i 9. liczby  $a$ ,  $b$  i  $c$  są wyznaczone za pomocą tych wzorów.

**Zadanie 8. (0–1)**

**Uzupełnij zdania. Wybierz odpowiedź spośród oznaczonych literami A i B oraz odpowiedź spośród oznaczonych literami C i D.**

Liczba  $a$  zawsze będzie  A  B.

A. parzysta

B. nieparzysta

Liczby  $b$  i  $c$  różnią się o  C  D.

C. 1

D.  $n$

**Zadanie 9. (0–1)**

**Dokończ zdanie. Wybierz właściwą odpowiedź spośród podanych.**

Jeżeli najmniejsza z liczb  $a$ ,  $b$  i  $c$  jest równa 9, to największa z tych liczb jest równa

A. 41

B. 73


C. 145

D. 181

**PRZENIEŚ ROZWIĄZANIA ZADAŃ NA KARTĘ ODPOWIEDZI!**



**Brudnopis**



**Zadanie 10. (0–1)**

Ala kupiła trzy zeszyty i blok rysunkowy. Średnia arytmetyczna cen tych czterech rzeczy była równa 6 zł. Zeszyty kosztowały łącznie 15 zł.

Ile kosztował blok rysunkowy? Wybierz właściwą odpowiedź spośród podanych.

- A. 4 zł                      B. 5 zł                      C. 8 zł                      D. 9 zł

**Zadanie 11. (0–1)**

Na andrzejkową loterię przygotowano 150 losów. Co szósty los wygrywał, a pozostałe losy były puste. Uczniowie wyciągnęli 30 losów, ale żaden z nich nie wygrał.

Uzupełnij zdania. Wybierz odpowiedź spośród oznaczonych literami A i B oraz odpowiedź spośród oznaczonych literami C i D.

Na loterię przygotowano   losów wygrywających.

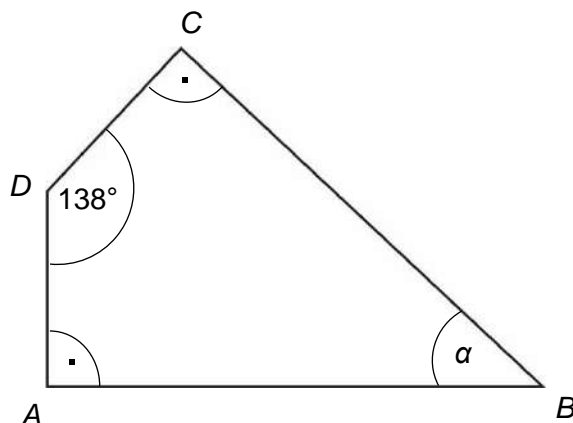
- A. 120                      B. 25

Wyciągnięto jeszcze jeden los. Prawdopodobieństwo tego, że będzie to los wygrywający, wynosi  .

- C.  $\frac{25}{120}$                       D.  $\frac{25}{125}$

**Zadanie 12. (0–1)**

W czworokącie  $ABCD$  dwa kąty są proste, a kąt rozwarty ma miarę  $138^\circ$  (patrz rysunek).




Jaką miarę ma kąt  $\alpha$  zaznaczony na rysunku? Wybierz właściwą odpowiedź spośród podanych.

- A.  $38^\circ$                       B.  $42^\circ$                       C.  $45^\circ$                       D.  $48^\circ$

**PRZENIEŚ ROZWIĄZANIA ZADAŃ NA KARTĘ ODPOWIEDZI!**

**Brudnopis**



**Zadanie 13. (0–1)**

Adam pociął pręt na 8 równych części – każda o długości 15 cm. Bartek pociął pręt o takiej samej długości na 5 równych części.

**Jaką długość miała każda część pręta Bartka? Wybierz właściwą odpowiedź spośród podanych.**

- A. 18 cm                      B. 20 cm                      C. 24 cm                      D. 28 cm

**Zadanie 14. (0–1)**

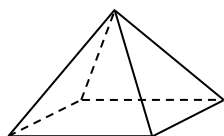
Skrzynia ma kształt prostopadłościanu. Podłoga skrzyni ma wymiary 1,5 m i 1,2 m, a wysokość skrzyni jest równa 1 m. Piasek wsypany do skrzyni zajmuje  $\frac{3}{4}$  jej pojemności.

**Ile metrów sześciennych piasku wsypano do skrzyni? Wybierz właściwą odpowiedź spośród podanych.**

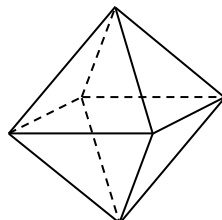
- A. 1,8 m<sup>3</sup>                      B. 0,45 m<sup>3</sup>                      C. 1,35 m<sup>3</sup>                      D. 2,4 m<sup>3</sup>

**Zadanie 15. (0–1)**

Stas miał dwa jednakowe klocki w kształcie ostrosłupa prawidłowego czworokątnego (patrz rysunek 1.), każdy o polu powierzchni całkowitej 80 cm<sup>2</sup>. Podstawa i ściana boczna klocka mają równe pola. Stas skleił oba klocki podstawami (patrz rysunek 2.).



Rysunek 1.




Rysunek 2.

**Jakie pole powierzchni ma bryła otrzymana przez Stasia? Wybierz właściwą odpowiedź spośród podanych.**

- A. 112 cm<sup>2</sup>                      B. 128 cm<sup>2</sup>                      C. 144 cm<sup>2</sup>                      D. 160 cm<sup>2</sup>

**PRZENIEŚ ROZWIĄZANIA ZADAŃ NA KARTĘ ODPOWIEDZI!**

**Brudnopis**




**Zadanie 16. (0–2)**

Paweł chciał podzielić tabliczkę czekolady w taki sposób, że:

- brat otrzyma  $\frac{1}{2}$  całej tabliczki
- siostra otrzyma  $\frac{5}{12}$  całej tabliczki
- dla siebie zostawi  $\frac{1}{6}$  całej tabliczki.

Czy taki podział tabliczki czekolady jest możliwy?


Uzasadnij swoją odpowiedź.





**Zadanie 18. (0–2)**

**Ania miała 14 zł. Chciała kupić 10 takich samych drożdżówek, ale zabrakło jej 4 zł. Kupiła 7 takich drożdżówek. Ile reszty otrzymała Ania? Zapisz obliczenia.**







**Brudnopis**

