

Arkusz zawiera informacje prawnie chronione do momentu rozpoczęcia egzaminu.

Układ graficzny © CKE 2013

UZUPEŁNIA ZDAJĄCY

KOD

--	--	--

PESEL

--	--	--	--	--	--	--	--	--	--	--	--	--	--	--	--	--	--	--	--	--

*miejsce
na naklejkę*

**EGZAMIN MATURALNY
Z HISTORII**

POZIOM PODSTAWOWY

18 MAJA 2020

Instrukcja dla zdającego

1. Sprawdź, czy arkusz egzaminacyjny zawiera 24 strony (zadania 1–38). Ewentualny brak zgłoś przewodniczącemu zespołu nadzorującego egzamin.
2. Odpowiedzi zapisz w miejscu na to przeznaczonym przy każdym zadaniu.
3. Pisz czytelnie. Używaj długopisu/pióra tylko z czarnym tuszem/atramentem.
4. Nie używaj korektora, a błędne zapisy wyraźnie przekreśl.
5. Pamiętaj, że zapisy w brudnopisie nie będą oceniane.
6. Na tej stronie oraz na karcie odpowiedzi wpisz swój numer PESEL i przyklej naklejkę z kodem.
7. Nie wpisuj żadnych znaków w części przeznaczonej dla egzaminatora.

**Godzina rozpoczęcia:
14:00**

**Czas pracy:
120 minut**

**Liczba punktów
do uzyskania: 100**



MHI-P1_1P-202

Zadanie 1. (1 pkt)

Na podstawie ilustracji wykonaj polecenie.



<http://cyfrowe.mnw.art.pl>

Zaznacz poprawne zakończenie zdania.

Przedstawione na ilustracji pismo jest charakterystyczne dla kręgu starożytnej cywilizacji

- A. Chin.
- B. Egiptu.
- C. Indii.
- D. Mezopotamii.

Zadanie 2. (3 pkt)

Na podstawie tekstu wykonaj polecenia.

Nasz ustroj polityczny nie jest naśladownictwem obcych praw, a my sami raczej jesteśmy wzorem dla innych niż inni dla nas. [...] Opiera się [on] na większości obywateli, a nie na mniejszości. W sporach prywatnych każdy obywatel jest równy w obliczu prawa; jeśli zaś chodzi o znaczenie, to jednostkę ceni się nie ze względu na jej przynależność do pewnej grupy, lecz ze względu na talent osobisty, jakim się wyróżnia [...].

Tukidydes, *Wojna peloponeska*, Warszawa 1988, s. 107.

2.1. Podaj nazwę ustroju politycznego opisanego w tekście.

.....

2.2. Podaj dwie cechy tego ustroju.

-
-

Zadanie 3. (3 pkt)

Obok nazwy starożytnego państwa wpisz nazwę budowli, która znajdowała się na jego terenie. Odpowiedzi wybierz spośród podanych.

brama Isztar Wielki Mur świątynia Salomona piramida Cheopsa

1. Egipt
2. Izrael
3. Chiny

Zadanie 4. (2 pkt)

Spośród wymienionych wydarzeń wybierz wydarzenie chronologicznie pierwsze i oznacz je literą A, a także wydarzenie chronologicznie ostatnie i oznacz je literą B.

zburzenie Kartaginy przez Rzymian	
klęska Marka Antoniusza pod Akcjum	
zwycięstwo Hannibala pod Kannami	
zwycięstwo Macedończyków pod Cheroneą	
klęska Greków pod Termopilami	

Zadanie 5. (2 pkt)

Na podstawie tekstu wykonaj polecenie.

Rzym leżał na pograniczu Lacjum i Etrurii, w odległości około 14 kilometrów od ujścia Tybru. [...] Miasto zbudowano na rozległej równinie latyńskiej, terenie bardzo urodzajnym, który przy właściwej kultywacji mógł zapewnić wyżywienie znacznej liczbie mieszkańców. Położenie na wzgórzach chroniło Rzym przed niebezpieczeństwem powodzi, które były plagą doliny Tybru. Tyber zapewniał Rzymowi połączenie z morzem i stanowił potencjalny szlak handlu zagranicznego. Ponadto miasto panowało nad miejscem najłatwiejszej przeprawy przez rzekę w jej dolnym biegu i dzięki temu zajmowało kluczową pozycję na szlaku komunikacyjnym wzdłuż zachodniego wybrzeża Italii.

M. Cary, H.H. Scullard, *Dzieje Rzymu* [...], Warszawa 1992, t. 1, s. 81–82.

Podaj dwie korzyści gospodarcze wynikające z położenia Rzymu nad Tybrem.

-
-

Wypełnia egzaminator	Nr zadania	1.	2.	3.	4.	5.
	Maks. liczba pkt	1	3	3	2	2
	Uzyskana liczba pkt					

Zadanie 6. (2 pkt)

Na podstawie tekstu i własnej wiedzy wykonaj polecenia.

Gdy składał ofiary bogom, wieszczek [...] upomniął go, aby „strzegł się niebezpieczeństwa, które nie sięgnie poza idy marcowe”. [...] Spiskowcy niby dla okazania czci otoczyli go zwartym kołem. [...] Gdy spostrzegł, że ze wszystkich stron grożą mu wyciągnięte sztylety, zasłonił sobie twarz togą, jednocześnie przy pomocy lewej ręki owinął się fałdem togi aż poniżej goleni [...]. Tak zakłuty został dwudziestoma trzema ciosami. Po pierwszym tylko jęk wydał, bez słowa. Niektórzy jednak podają, że w chwili gdy Marek Brutus rzucał się na niego, miał [...] te słowa powiedzieć po grecku: „I ty dziecko?”.

Gajusz Swetoniusz Trankwillus, *Żywoty* [...], Wrocław 1987, s. 67–68.

6.1. Rozpoznaj postać, która była ofiarą opisanego zamachu.

.....

6.2. Wyjaśnij, dlaczego doszło do wydarzeń opisanych w tekście.

.....

.....

.....

Zadanie 7. (2 pkt)

Podkreśl nazwy zakonów rycerskich.

- A. benedyktyni
- B. joannici
- C. dominikanie
- D. franciszkanie
- E. templariusze

Zadanie 8. (3 pkt)

Do podanych opisów dopisz właściwe pojęcia z historii średniowiecza.

Opis	Pojęcie
1. Danina, zwykle pieniężna, świadczona przez jednego władcę drugiemu jako wyraz uznawania zwierzchności terytorialnej.	
2. Państwo (królestwo lub księstwo), które władca uważał za własność osobistą i za dziedzictwo po przodkach.	
3. Rycerz oddający się w opiekę potężniejszemu od siebie feudałowi w zamian za wsparcie i otrzymaną ziemię (lenno).	

Zadanie 9. (3 pkt)

Rysunki przedstawiają kościoły reprezentatywne dla różnych stylów architektonicznych. Wpisz właściwe nazwy stylów pod rysunkami. Odpowiedzi wybierz spośród podanych.

styl romański, styl gotycki, styl renesansowy, styl barokowy



1. 2. 3.
<https://pl.wikipedia.org>

Zadanie 10. (3 pkt)

Na podstawie tekstów rozpoznaj władców Polski. Wpisz właściwe imiona.

Fragment <i>Kroniki polskiej</i> Galla Anonima	Władca Polski
1. Jak zaś doszło do wypędzenia króla [...] z Polski, długo byłoby o tym mówić; tyle wszakże można powiedzieć, że sam będąc pomazańcem [Bożym] nie powinien był [drugiego] pomazańca za żaden grzech karać cielesnie. [...] My zaś ani nie usprawiedliwiamy biskupa-zdrajcy ani nie zalecamy króla, który tak szpetnie dochodził swych praw.	
2. Dotychczas jednak w takich był pogrążony błędach pogaństwa, że wedle swego zwyczaju siedmiu żon zażywał. W końcu zażądał w małżeństwo jednej bardzo dobrej chrześcijanki z Czech. [...] Pani owa przybyła do Polski z wielkim orszakiem dostojników świeckich i duchownych.	
3. Również i to uważamy za godne przekazania pamięci, że za jego czasów cesarz Otto [...] przybył do [grobu] św. Wojciecha dla modlitwy i pojednania, a zarazem w celu poznania sławnego [władcy], jak o tym można dokładnie przeczytać w księdze o męczeństwie tego świętego.	

Anonim, tzw. Gall, *Kronika polska*, Wrocław 1982, s. 17, 19, 50–51.

Wypełnia egzaminator	Nr zadania	6.	7.	8.	9.	10.
	Maks. liczba pkt	2	2	3	3	3
	Uzyskana liczba pkt					

Zadanie 11. (2 pkt)

Na podstawie tekstu zaznacz poprawne zakończenia zdań 1. i 2.

[P]apież, chcąc jeszcze większe masy pociągnąć, zwołał na jesień tegoż roku sobór do Clermont, miasta położonego prawie w środku Francji [...]. Witany wszędzie po drodze z czcią najgłębszą, Urban II znalazł (spotkał) w Clermont 14 arcybiskupów, 225 biskupów, 400 opatów z różnych krajów i taką ciżbę ludu, że jej miasto objąć nie mogło. [...] Przerywano kilkakrotnie papieżowi, a gdy skończył swą mowę, całe pole napełniło się okrzykami: „Bóg tak chce” [...]. Płacząc, [...] tłoczyli się ludzie różnych stanów do stopni tronu, przyjmowali i przypinali sobie na piersiach krzyże z czerwonego sukna.

T. Korzon, *Historia wieków średnich*, Warszawa 1905, s. 193–194.

1. Wydarzenie opisane w tekście miało miejsce w

- A. X wieku.
- B. XI wieku.
- C. XIV wieku.
- D. XV wieku.

2. Następstwem wydarzenia opisanego w tekście była

- A. rekonkwista.
- B. schizma wschodnia.
- C. „czarna śmierć”.
- D. krucjata.

Zadanie 12. (2 pkt)

Spośród wymienionych wydarzeń z dziejów średniowiecznej Polski wybierz wydarzenie chronologicznie pierwsze i oznacz je literą A, a także wydarzenie chronologicznie ostatnie i oznacz je literą B.

utworzenie arcybiskupstwa gnieźnieńskiego	
zawarcie pokoju w Budziszynie	
sprowadzenie Krzyżaków do Polski	
zawarcie unii polsko-litewskiej w Krewie	
utworzenie Akademii Krakowskiej	

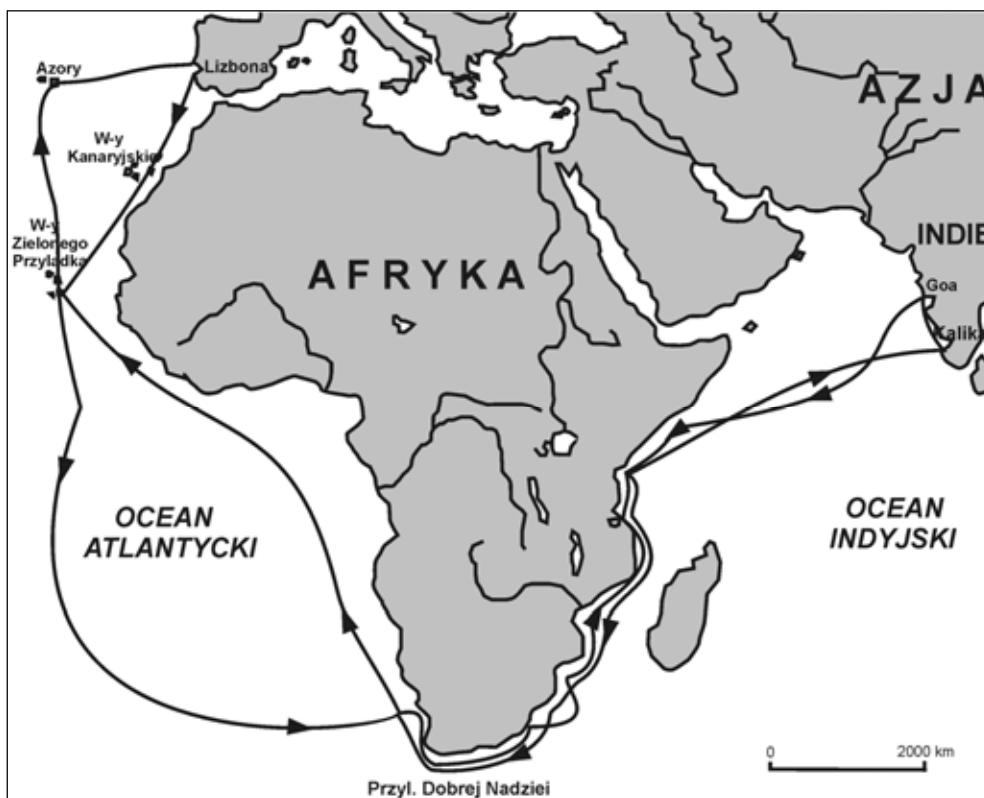
Zadanie 13. (4 pkt)

Wpisz do tabeli władców Polski, za których panowania zostały nadane szlachcie wymienione przywileje.

Przywilej	Władca
koszycki	
czerwiński	
cerekwicko-nieszawski	
radomski (konstytucja <i>Nihil novi</i>)	

Zadanie 14. (2 pkt)

Na podstawie mapy i własnej wiedzy wykonaj polecenie.



Na podstawie: T. Słabczyński, *Wielcy odkrywcy* [...], Warszawa 1995, s. 62.

Zaznacz poprawne dokończenie zdania i uzasadnij swój wybór.

Przedstawioną na mapie podróż odbył

- A. Vasco da Gama.
- B. Krzysztof Kolumb.
- C. Ferdynand Magellan.
- D. Amerigo Vespucci.

Uzasadnienie:
.....
.....
.....

Wypełnia egzaminator	Nr zadania	11.	12.	13.	14.
	Maks. liczba pkt	2	2	4	2
	Uzyskana liczba pkt				

Zadanie 15. (2 pkt)

Na podstawie tekstu i własnej wiedzy wykonaj polecenie.

Równoległe ze wzrostem ilości metali szlachetnych znajdujących się w obiegu, rosły ceny w Hiszpanii i w całej Europie, przy czym nie wszystko drożało równomiernie – żywność bardziej niż wyroby przemysłowe. W piątym dziesięcioleciu XVI w. ceny w Hiszpanii w porównaniu z pierwszym dziesięcioleciem wzrosły o 57%. W Anglii ceny w latach 1551–1560 były o ponad 33% wyższe niż w okresie 1501–1520. We Francji w ostatnim ćwierćwieczu XVI stulecia wzrosły one dwukrotnie w stosunku do pierwszego, w Hiszpanii zaś $2\frac{2}{3}$ razy.

Z. Wójcik, *Historia powszechna XVI–XVII wieku*, Warszawa 1979, s. 20.

Podaj termin, którym określa się opisane zjawisko ekonomiczne, i wyjaśnij przyczynę wzrostu ilości złota i srebra w Europie w XVI wieku.

Termin:

Przyczyna:

.....

.....

.....

.....

Zadanie 16. (4 pkt)

Na podstawie opisów rozpoznaj postaci. Odpowiedzi wybierz spośród podanych i wpisz do tabeli.

Henryk VIII Jan Kalwin Marcin Luter Ignacy Loyola Filip II

1. Pochodził z Hiszpanii. Służył w armii tego państwa. Wraz z kilkoma towarzyszami złożył śluby zakonne i opracował regułę nowego zgromadzenia, które miało szerzyć wiarę katolicką.	
2. Urodził się na terenie Francji. Zamieszkał w Genewie, gdzie stworzył chrześcijańską gminę. Głosił naukę o predestynacji.	
3. Swoje nauki głosił w Niemczech, m.in. w Wittenberdze. Przetłumaczył Biblię na język niemiecki. Krytykował zbytek i zepsucie panujące w Stolicy Apostolskiej.	
4. Władca z dynastii Tudorów, który wydał w 1534 roku <i>Akt o supremacji</i> . Stało się to podstawą niezależności kościoła w kraju rządzonym przez tego władcę.	

Zadanie 17. (2 pkt)

Na podstawie tekstu i własnej wiedzy wykonaj polecenie.

Ciemności nocy spowiły tragiczne wydarzenia. Dopiero rano [...] odnaleźli ciało kanclerza i hetmana wielkiego koronnego Stanisława Żółkiewskiego. Siedemdziesięcioletni sędziwy wódz miał odrąbaną prawą rękę i ciętą głęboką ranę na skroni, co oznaczało, że drogo sprzedał swe życie. Jego siwą głowę Skinder pasza nakazał uciąć i przesłać padyszachowi.

*Głowa zawisła wysoko w złotym pałacu sultana.
Ten tylko może go spotkać honor na dworze Osmana.*

– szydził nadworny poeta padyszacha.

J. Besala, *Stanisław Żółkiewski*, Warszawa 1988, s. 367.

Podaj nazwę miejsca bitwy, w której zginął Stanisław Żółkiewski, oraz nazwę państwa – przeciwnika Rzeczypospolitej w tej bitwie.

Miejsce bitwy:

Nazwa państwa:

Zadanie 18. (3 pkt)

Na podstawie ilustracji i własnej wiedzy wykonaj polecenia.



<http://www.muzeumwp.pl>

18.1. Podaj nazwę wydarzenia, z którym wiąże się ustanowienie tego orderu.

.....

18.2. Podaj władcę Polski, który ustanowił ten order.

.....

18.3. Zaznacz poprawne zakończenie zdania.

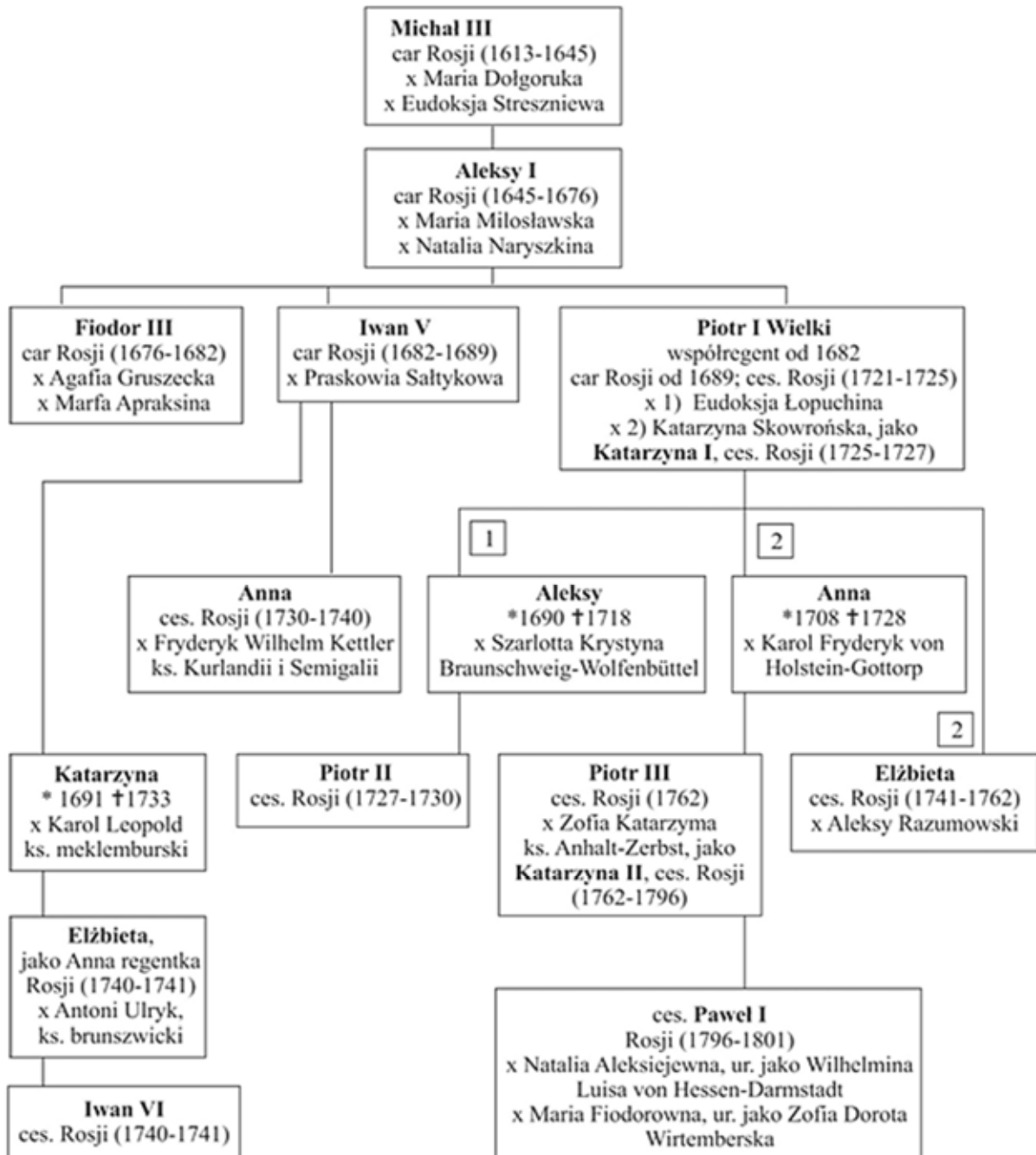
Orderem przedstawionym na ilustracji udekorowano

- A. Stefana Czarnieckiego.
- B. Ignacego Krasickiego.
- C. Tadeusza Kościuszkę.
- D. Hieronima Radziejewskiego.

Wypełnia egzaminator	Nr zadania	15.	16.	17.	18.
	Maks. liczba pkt	2	4	2	3
	Uzyskana liczba pkt				

Zadanie 19. (3 pkt)

Na podstawie fragmentu tablicy genealogicznej Romanowów wykonaj polecenia.



Na podstawie: L. Bazylow, *Historia Rosji*, Warszawa 1983, wklejka.

19.1. Podaj imię władcy Rosji, który jako pierwszy zaczął tytułować się cesarzem.

.....

19.2. Podaj imię władcy Rosji, który panował w roku utworzenia Legionów Polskich we Włoszech.

.....

19.3. Podaj imię władcy Rosji, który panował w roku pierwszego rozbioru Polski.

.....

Zadanie 20. (3 pkt)

Uzupełnij poniższy tekst.

Uwaga: 1) wpisz nazwę zaboru, 2) wpisz nazwę państwa, 3) wpisz imię (lub imię i nazwisko).

Księstwo Warszawskie zostało utworzone z ziem drugiego i trzeciego zaboru
1) Władca 2)
był również księciem warszawskim. Konstytucja Księstwa Warszawskiego została nadana przez 3), który dyktował warunki ówczesnej Europie.

Zadanie 21. (2 pkt)

Do podanych opisów dopisz właściwe pojęcia.

Opis	Pojęcie
1. Ruch społeczno-polityczny, powstały pod koniec XVIII wieku, mający na celu zniesienie niewolnictwa, a po wojnie secesyjnej walczący z wszelkimi przejawami dyskryminacji rasowej.	
2. Ideologia odrodzenia narodowego Żydów zmierzająca do zahamowania procesów asymilacyjnych mniejszości żydowskiej żyjącej w poszczególnych państwach i stawiająca sobie za cel stworzenie państwa żydowskiego w Palestynie.	

Wypełnia egzaminator	Nr zadania	19.	20.	21.
	Maks. liczba pkt	3	3	2
	Uzyskana liczba pkt			

Zadanie 22. (3 pkt)

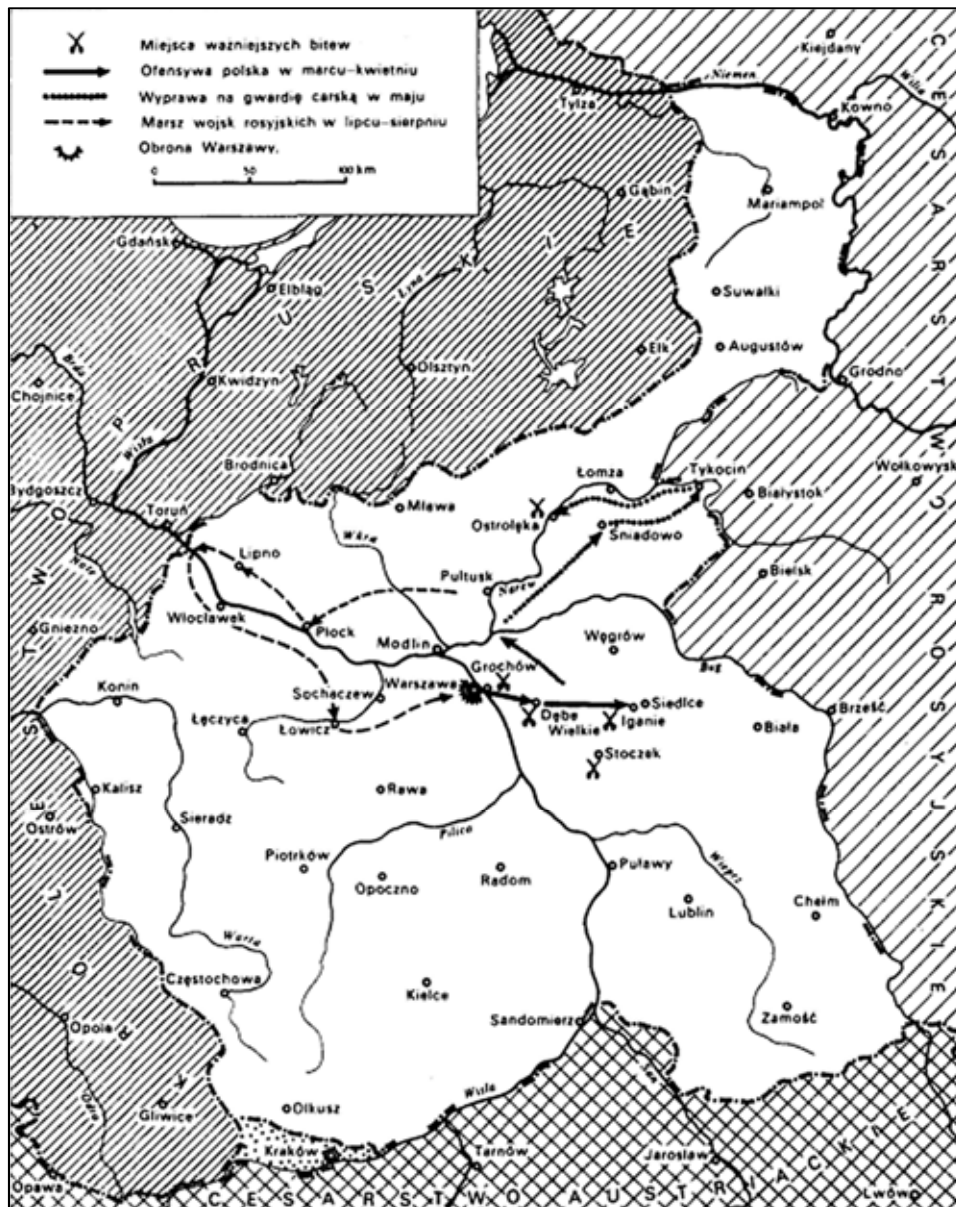
Na podstawie map wykonaj polecenie.

Mapa 1.



S. Kieniewicz, *Historia Polski 1795–1918*, Warszawa 1969, s. 252.

Mapa 2.



S. Kieniewicz, *Historia Polski 1795–1918*, Warszawa 1969, s. 103.

Rozstrzygnij, która mapa przedstawia Królestwo Polskie w okresie powstania listopadowego. Uzasadnij odpowiedź, podając dwa argumenty.

Mapa:

-
-

Wypełnia egzaminator	Nr zadania	22.
	Maks. liczba pkt	3
	Uzyskana liczba pkt	

Zadanie 23. (3 pkt)

Na podstawie opisów rozpoznaj postaci. Odpowiedź wybierz spośród podanych i wpisz do tabeli.

*Adam Jerzy Czartoryski Józef Chłopicki Romuald Traugutt
Piotr Wysocki Aleksander Wielopolski*

Opis	Postać
1. Generał, ostatni dyktator powstania styczniowego. Reorganizator wojsk powstańczych. Aresztowany przez Rosjan i stracony na stokach warszawskiej cytadeli.	
2. Przywódca spisku podchorążych. Uczestnik wydarzeń nocy listopadowej. Podczas powstania listopadowego oficer polskiej armii. Po klęsce skazany na długoletnie zesłanie na Syberię.	
3. Polityk, dyplomata. Przyczynił się do utworzenia Królestwa Polskiego pod berłem cara Rosji. Po powstaniu listopadowym osiadł w Paryżu i przewodził stronnictwu arystokratyczno-konserwatywnemu, zwanemu Hotel Lambert.	

Zadanie 24. (3 pkt)

Do wymienionych działaczy politycznych dopisz nazwę partii, której byli oni przedstawicielami. Odpowiedzi wybierz spośród podanych.

*Polskie Stronnictwo Ludowe „Piast”
Polska Partia Socjalistyczna
Socjaldemokracja Królestwa Polskiego i Litwy
Stronnictwo Narodowo-Demokratyczne*

1. Józef Piłsudski	
2. Roman Dmowski	
3. Wincenty Witos	

Zadanie 25. (3 pkt)

Na podstawie tekstu i własnej wiedzy wykonaj polecenia.

Jego Cesarska i Królewska Mość Cesarz Austrii i Apostolski Król Węgier oraz Jego Cesarska Mość Cesarz Niemiecki ułożyli się, by z ziem tych utworzyć państwo samodzielne z dziedziczną monarchią i konstytucyjnym ustrojem. Dokładniejsze oznaczenie granic zastrzega się. [...] We własnej armii nadal żyć będą pełne sławy tradycje wojsk polskich dawniejszych czasów [...].

Polska w latach 1864–1918. Wybór tekstów źródłowych do nauczania historii, red. A. Galos, Warszawa 1987, s. 253–254.

25.1. Podaj stosowaną w historiografii nazwę zacytowanego dokumentu.

.....

25.2. Wyjaśnij cel wydania tego dokumentu.

.....
.....
.....

25.3. Podaj nazwę państwa, przeciwko któremu skierowane były postanowienia zawarte w dokumencie.

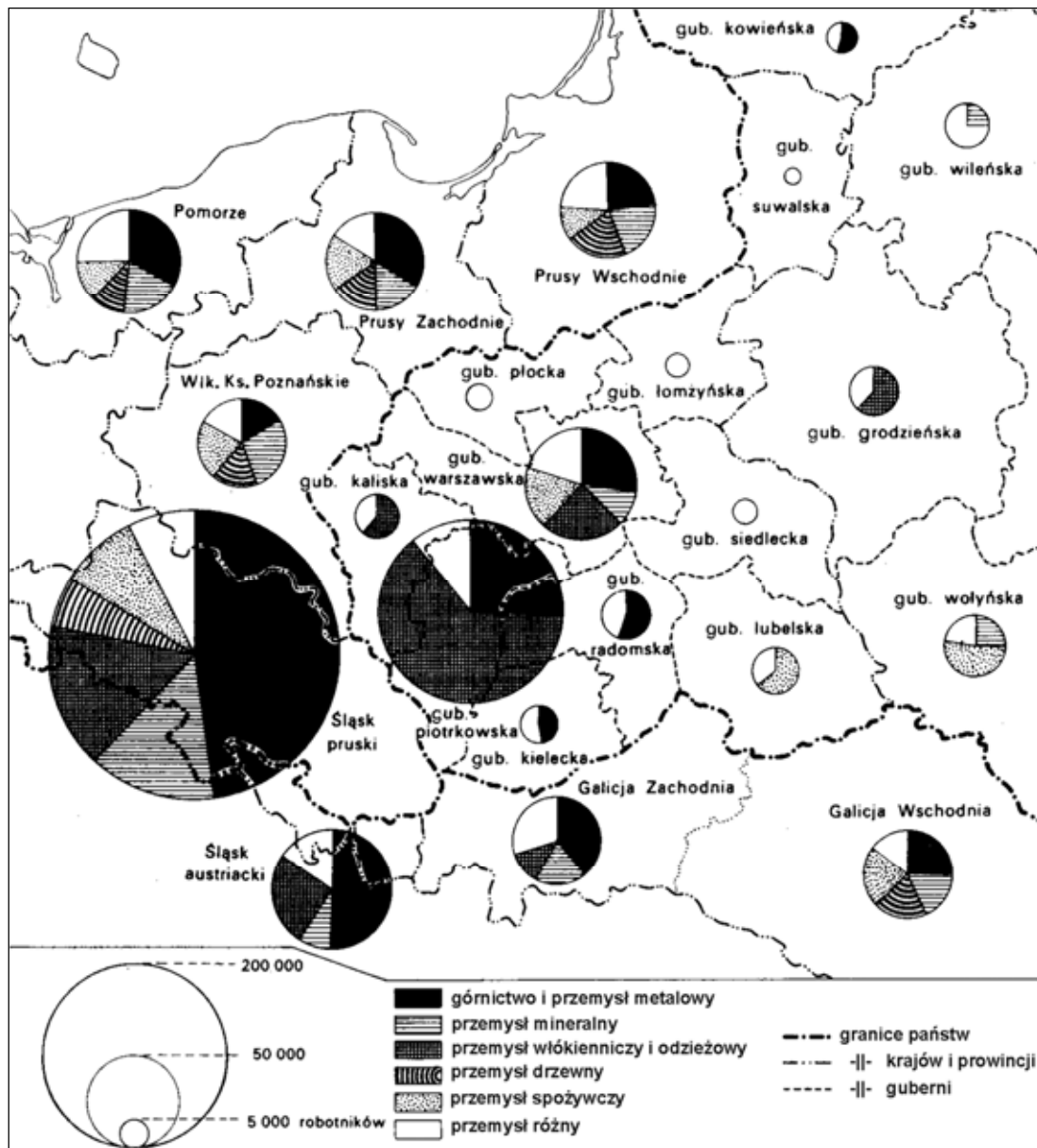
.....

Wypełnia egzaminator	Nr zadania	23.	24.	25.
	Maks. liczba pkt	3	3	3
	Uzyskana liczba pkt			

Zadanie 26. (3 pkt)

Na podstawie mapy wykonaj polecenia.

Mapa. Przemysł na ziemiach polskich ok. 1910 r.



S. Kieniewicz, *Historia Polski 1795–1918*, Warszawa 1969, s. 393.

26.1. Podaj nazwę obszaru, na terenie którego liczba zatrudnionych w górnictwie była największa.

.....

26.2. Podaj nazwę zaboru, w którym procentowo najwięcej robotników było zatrudnionych w przemyśle włókienniczym i odzieżowym.

.....

26.3. Podaj nazwę guberni, w której zatrudnienie w przemyśle było najmniejsze.

.....

Zadanie 27. (2 pkt)

Na podstawie danych statystycznych i własnej wiedzy wykonaj polecenia.

Tabela. Bezrobocie w Polsce

Rok	Liczba bezrobotnych (szacunkowa)
1929	70 000
1930	240 000
1931	520 000
1932	750 000
1933	780 000
1934	740 000
1935	680 000

Na podstawie: H. Zieliński, *Historia Polski 1914–1939*, Wrocław 1983, s. 193.

27.1. Podaj przyczynę gwałtownego wzrostu bezrobocia w latach wymienionych w tabeli.

.....

27.2. Zaznacz poprawne zakończenie zdania.

Politykiem i działaczem gospodarczym, który podjął walkę z bezrobociem w drugiej połowie lat 30. XX wieku, był

- A. Ksawery Drucki-Lubecki.
- B. Władysław Grabski.
- C. Eugeniusz Kwiatkowski.
- D. Hilary Minc.

Zadanie 28. (2 pkt)

Na podstawie tekstu źródłowego i własnej wiedzy wykonaj polecenia.

Rozporządzenie z 17 września 1939 r.

Na podstawie art. 24 ust. 1 [...] wyznaczam p. Władysława Raczkiewicza, b. marszałka Senatu, na następcę Prezydenta Rzeczypospolitej na wypadek opróżnienia się urzędu Prezydenta Rzeczypospolitej przed zawarciem pokoju.

S. Rogowski, *Historia ustroju i prawa w Polsce 1918–1989*. [...], Warszawa 2006, s. 189.

28.1. Podaj nazwisko osoby, która wydała cytowane rozporządzenie.

.....

28.2. Podaj nazwę aktu prawnego, który umożliwił wydanie przytoczonego rozporządzenia.

.....

Wypełnia egzaminator	Nr zadania	26.	27.	28.
	Maks. liczba pkt	3	2	2
	Uzyskana liczba pkt			

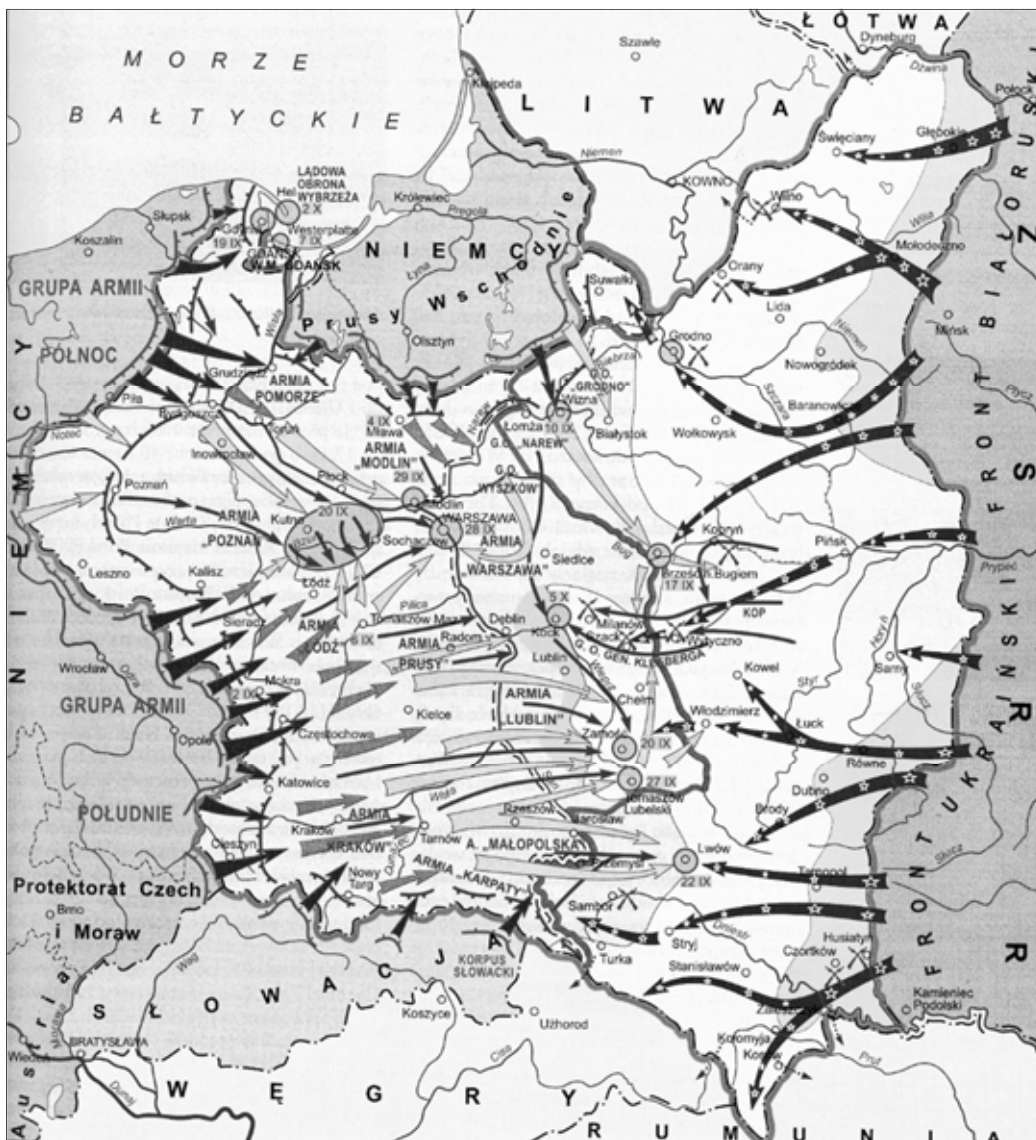
Zadanie 29. (2 pkt)

Spośród wymienionych wydarzeń wybierz wydarzenie chronologicznie pierwsze i oznacz je literą A, a także wydarzenie chronologicznie ostatnie i oznacz je literą B.

podpisanie układu Sikorski-Majski	
wybuch powstania warszawskiego	
proces szesnastu przywódców Polski podziemnej	
podpisanie paktu Ribbentrop-Mołotow	
wybuch powstania w getcie warszawskim	

Zadanie 30. (1 pkt)

Podaj przyjętą w historiografii nazwę dla określenia działań zbrojnych ukazanych na poniższej mapie.



Na podstawie: *Encyklopedia szkolna. Historia*, Warszawa 1993, s. 705.

Zadanie 31. (2 pkt)

Spośród wymienionych wydarzeń wybierz dwa z okresu dwudziestolecia międzywojennego. Obok tych wydarzeń postaw znak X.

utworzenie Europejskiej Wspólnoty Gospodarczej	
wprowadzenie planu Marshalla	
opracowanie polityki Nowego Ładu (<i>New Deal</i>) przez Roosevelta	
wprowadzenie Nowej Polityki Ekonomicznej w Rosji Radzieckiej	
powstanie Europejskiej Wspólnoty Węgla i Stali	

Zadanie 32. (4 pkt)

Na podstawie fotografii i własnej wiedzy wykonaj polecenia.



[...] *Wielkie bitwy i wielkie postaci drugiej wojny światowej*, Warszawa 1999, s. 237.

32.1. Podaj nazwiska przywódców mocarstw, którzy zostali przedstawieni na fotografii.

-
-
-

32.2. Podaj jedną decyzję dotyczącą powojennych losów Polski, która została podjęta przez tych przywódców na konferencji w Jaltcie.

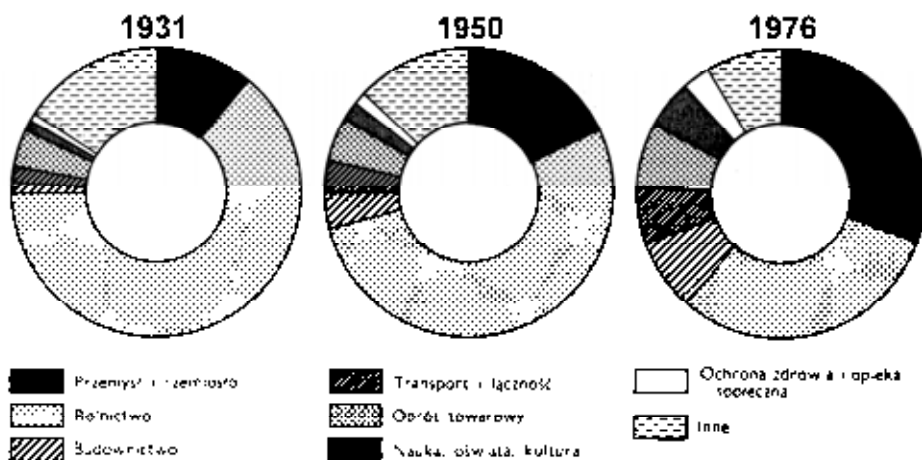
.....
.....
.....

Wypełnia egzaminator	Nr zadania	29.	30.	31.	32.
	Maks. liczba pkt	2	1	2	4
	Uzyskana liczba pkt				

Zadanie 33. (3 pkt)

Na podstawie diagramu i własnej wiedzy wykonaj polecenia.

Struktura zatrudnienia w Polsce według działów gospodarki i usług (w %)



Zarys historii Polski, red. J. Tazbir, Warszawa 1980, s. 794.

33.1. Podaj nazwę działu gospodarki, w którym między 1931 a 1976 rokiem odnotowano największy przyrost zatrudnienia.

.....

33.2. Określ tendencję zmiany zachodzącej w zatrudnieniu pracowników w rolnictwie w Polsce w okresie między 1931 r. a 1976 r.

.....

33.3. Podaj jedną przyczynę zmian zatrudnienia w przemyśle w Polsce w okresie od 1950 r. do 1976 r.

.....

Zadanie 34. (3 pkt)

Rozpoznaj wybitnych Polaków XX wieku. Odpowiedzi wybierz spośród podanych i wpisz do tabeli.

*Karol Wojtyła Tadeusz Mazowiecki Stanisław Mikołajczyk
Leopold Okulicki Stefan Wyszyński*

1. Publicysta, działacz społeczny, polityk, członek katolickiego koła poselskiego „Znak”. W sierpniu 1980 r. negocjator porozumień gdańskich. Pierwszy niekomunistyczny premier Polski.	
2. Od 1948 r. biskup lubelski; później arcybiskup gnieźnieński i warszawski, prymas Polski; internowany w okresie stalinowskim przez władze komunistyczne, uwolniony w 1956 r.	
3. W latach 1943–1944 premier rządu polskiego na emigracji; w latach 1945–1947 wicepremier i minister rolnictwa Tymczasowego Rządu Jedności Narodowej; w 1947 r. wyjechał z Polski.	

Zadanie 35. (2 pkt)

Na podstawie karykatury i własnej wiedzy wykonaj polecenie.

Karykatura z okresu zimnej wojny



Tłumaczenie napisu: *To mnie boli bardziej niż ciebie!*

<https://www.thinglink.com>

Zaznacz poprawne dokończenie zdania i uzasadnij swój wybór.

Karykatura odnosi się do

- A. wojny w Korei.
- B. kryzysu berlińskiego.
- C. wojny w Wietnamie.
- D. kryzysu kubańskiego.

Uzasadnienie:

.....

.....

.....

Wypełnia egzaminator	Nr zadania	33.	34.	35.
	Maks. liczba pkt	3	3	2
	Uzyskana liczba pkt			

Zadanie 36. (5 pkt)

Na podstawie tekstu i własnej wiedzy wykonaj polecenia.

Takim układem może być porozumienie, na mocy którego prezydentem zostanie wybrany kandydat z PZPR, a teka premiera i misja sformowania rządu powierzona kandydatowi „Solidarności”.

Taki prezydent będzie gwarantował ciągłość władzy, umów międzynarodowych i wojskowych sojuszy. Taki rząd będzie miał mandat ogromnej większości Polaków i zagwarantuje konsekwentną zmianę systemu gospodarczego i politycznego. Tylko taki układ władzy może zrealizować w praktyce postulat „wielkiej koalicji” i ma szansę otrzymać odpowiednią pomoc dla odbudowy gospodarczej kraju. I będzie to układ wiarygodny dla Polski i świata.

A. Michnik, *Wasz prezydent, nasz premier*, „Gazeta Wyborcza”, 3 VII [...], s. 1.

36.1. Podaj rok, w którym miała miejsce przedstawiona w tekście sytuacja.

.....

36.2. Podaj pełną nazwę partii, z której miał być wybrany prezydent, oraz nazwisko kandydata tej partii na urząd prezydenta.

Nazwa partii:

Nazwisko kandydata:

36.3. Podaj dwie korzyści, jakie miało przynieść Polsce utworzenie „wielkiej koalicji”.

-
-

Zadanie 37. (3 pkt)

Tabela. Struktura religijna ludności świata (wybrane religie) – dane w mln osób

		1947 r.	1990 r.
chrześcijanie	katolicy	421	996
	prawosławni	128	167
	protestanci	193	363
żydzi		11	17
muzułmanie		311	935
konfucjaniści		300	6
buddyści		150	303
hinduiści		255	705

Na podstawie: W. Roszkowski, *Półwiecze. Historia polityczna świata po 1945 roku*, Warszawa 1997, s. 23, 553.

Oceń prawdziwość poniższych zdań. Zaznacz P, jeśli zdanie jest prawdziwe, albo F – jeśli jest fałszywe.

1.	Spadek liczby konfucjanistów w 2 poł. XX wieku spowodowany był zmianami politycznymi w Chinach	P	F
2.	Liczba muzułmanów w latach 1947–1990 wzrosła przeszło trzykrotnie.	P	F
3.	Spośród wyznawców chrześcijaństwa największy przyrost liczby wyznawców odnotowało prawosławie.	P	F

Zadanie 38. (3 pkt)

Ilustracje przedstawiają trzy dzieła sztuki reprezentatywne dla różnych kierunków w malarstwie. Wpisz właściwe nazwy kierunków pod ilustracjami. Odpowiedzi wybierz spośród podanych.

ekspresjonizm kubizm secesja surrealizm impresjonizm



1.

2.

3.

<https://pl.wikipedia.org>

Wypełnia egzaminator	Nr zadania	36.	37.	38.
	Maks. liczba pkt	5	3	3
	Uzyskana liczba pkt			

BRUDNOPIS

